



1 Hohe Tatra



4 Riesengebirge

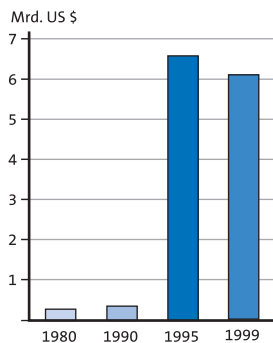


6 Altstadt von Krakau: Weltkulturerbe

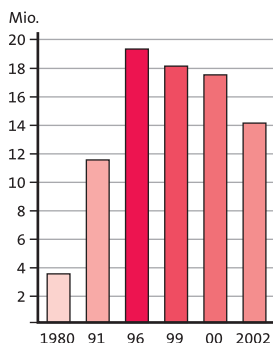


8 Wanderdünen im UNESCO-Schutzgebiet der Ostseeküste

## Tourismus – Lichtblick für die Wirtschaft



2 Deviseneinnahmen Polens



3 Einreisende Touristen nach Polen

Für den Tourismus bedeutete der Umbruch 1989 einen starken Aufschwung. Mit dem Fall des „Eisernen Vorhangs“ – so nannte man die Grenze zwischen den kommunistischen und den demokratischen Staaten – wurde Polen als Reiseland für alle Europäer interessant. Touristen aus Deutschland machen dabei mit etwa einem Drittel den größten Teil der Besucher aus.

Die Gründe der Besuche sind vielfältig: Touristen kommen in etwa zu gleichen Teilen zum Einkaufen, Ferien machen, geschäftlich oder um Verwandte und Freunde zu besuchen.

### Europas Grenze hat Einfluss

Zukünftig, so die Prognosen, wird die Zahl der Touristen zwar nicht mehr wesentlich steigen, die Herkunftsländer der Besuchergruppen werden sich aber ändern.

Die östlichen Grenzen Polens sind mit dem Beitritt zugleich die Außengrenzen der EU. Das bedeutet, dass sie für die Besucher aus Russland, Litauen, Weißrussland und der Ukraine weniger durchlässig werden. Somit entfällt ein großer Teil der Einkaufstouristen, von denen viele Händler im Grenzgebiet leben. Steigen wird dagegen die Anzahl der Urlauber aus den anderen EU-Staaten, wengleich die Entfernungen aufgrund der peripheren Lage innerhalb der Europäischen Union für einige Länder groß sind.

### 5 Musik des Himmels, der Erde, des Wassers

Masuren – das heißt Natur wie aus einem alten Bilderbuch: geheimnisvolle Wälder, erfrischende Seen, sanfte Hügel und verträumte Dörfer. Die erste Woche sind wir in einer kleinen, komfortablen, familiären Pension in Rydzewo, direkt am See mit eigenem Strand, untergebracht. Die zweite Woche verbringen in einer Pension in Muntowo direkt am Juksty-See (...). Die Schönheit und Ursprünglichkeit dieser Landschaft bietet eine traumhafte Kulisse für einen unvergesslichen Radurlaub. Eine abwechslungsreiche Radtour in teilweise hügeligem Gelände, abseits der großen Straßen, auf kleinen Nebenstraßen, Wald- und Sandwegen (...)

Quelle: [www.masuren.de](http://www.masuren.de)

Hauptreiseziele sind die Strandbäder der Ostsee, die Seenplatte, die Karpaten und Sudeten sowie die historischen Städte. Auch die 22 Nationalparks locken große Touristenmengen an.

### Erreichbarkeit verbessern

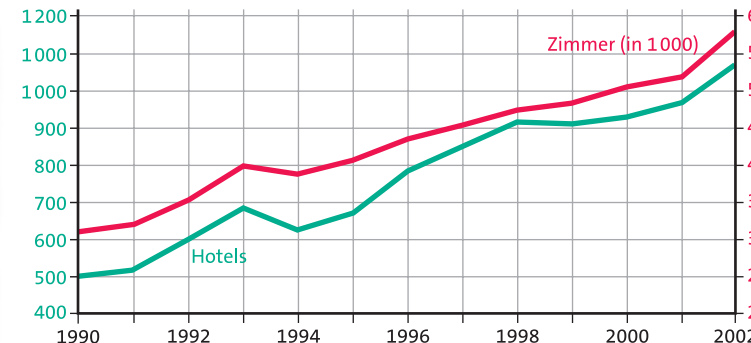
In der EU kümmert sich besonders die Arbeitsgruppe „Transport Infrastructure Needs Assessment (TINA)“ um den Ausbau der Verkehrsnetze in den Beitrittsstaaten. Den Bedarf für das im Vergleich zu den

### 7 Polens Städte – Magneten für den Fremdenverkehr

Viele Touristen besuchen das Land nicht zuletzt wegen der Städte, deren Kernzonen aufwändig restauriert wurden, z. B.

- Warschau: Hauptstadt mit zahlreichen Museen und Sehenswürdigkeiten
- Krakau: alte Stadt an der Weichsel mit restaurierten Renaissance- und Barockbauten, viele historische Sehenswürdigkeiten
- Tschenstochau: Pilgerstadt mit Kirchen und Klöstern
- Danzig: Hafenstadt an der Ostsee
- Stettin: Polens „Tor zur Welt“ mit vielen historischen Bauwerken, Schloss und Kathedrale

EU-15-Staaten unterentwickelte Straßen- und Schienennetz Polens schätzt TINA auf 36,4Mrd.Euro. Beihilfen der Europäischen Union gibt es, wenn Polen mindestens 1,5% des BIP für die Verbesserung der Transportwege ausgibt. Dieser Verpflichtung kommt die Regierung nur zögerlich nach. Doch für einen wirtschaftlichen Aufschwung ist die Gewährleistung von Mobilität besonders bedeutsam. Hier haben die Transformationsstaaten, die neu zur EU hinzugekommen sind, noch Nachholbedarf.



9 Hotels und Zimmer in Polen

- 1 **Arbeite mit den Materialien:** Mit welchen Angeboten wirbt Polen um Touristen?
- 2 **Beschreibe mithilfe der Materialien,** wie sich der Fremdenverkehr seit 1990 entwickelt hat.
- 3 **Zeige auf, warum die EU dem Ausbau der Verkehrsinfrastruktur so hohe Bedeutung beimisst.**
- 4 **Beschaffe zum Thema „Städtetourismus“ zu den in Text 7 genannten Städten Material für die Gestaltung einer Wandzeitung.**
- 5 **Atlasarbeit:** Errechne die Entfernung von Düsseldorf nach Bialystok. Welche Urlaubsregionen sind ähnlich weit von Düsseldorf entfernt?
- 6 **Erläutere die Chancen aus dem Transformationsprozess und der EU-Mitgliedschaft für den Fremdenverkehrssektor.**