



Mein Weihnachtsbüchlein Klasse 2



Erfinde eine Rechengeschichte und rechne.



In der Schneemannschule




Hilf den Schneekindern beim Rechnen.

5	9	+	6	=			
7	6	+	7	=			
4	8	+		=	5	2	
8	5	+		=	9	3	
4	+	2	9	=			
6	+	5	7	=			
	+	7	9	=	8	4	
	+	6	6	=	7	4	
4	+			=	3	3	

6	3	-	5	=			
4	6	-	8	=			
5	4	-	7	=			
7	5	-	9	=			
5	1	-		=	4	7	
8	3	-		=	7	7	
6	5	-		=	5	9	
9	2	-		=	8	8	
		-	3	=	2	9	

Weihnachtsbäckerei



Die Oma hat für ihre Enkelkinder Plätzchen gebacken. 50 Plätzchen hat sie in eine Schale gelegt und auf den Tisch gestellt.

Zuerst kommt Lisa und isst 8 Plätzchen auf. Dann kommt Max und holt sich 7 Plätzchen.


Da fragt die Oma :

„Wie viele Plätzchen sind denn noch da?“

Rechnung : _____

Antwort : _____

Geschenke verpacken



Heute packt der Weihnachtsmann Puppen und Autos ein. Zuerst hat er 45 große und 8 kleine Puppen eingepackt. Dann hat er 49 große und 6 kleine Autos eingepackt.


Frage : Hat der Weihnachtsmann mehr Puppen oder mehr Autos eingepackt?

Puppen : _____

Autos : _____

Antwort : _____

Wir warten auf Schnee.




63 Kinder haben sich Skier gewünscht. Der Weihnachtsmann hat schon 55 Paar Skier auf seinen Schlitten geladen.


Frage : Wie viele Paar Skier fehlen noch?

Rechnung : _____

Antwort : _____



Male den Weihnachtsmann richtig an.



34 = schwarz

45 = rot

53 = braun

62 = gelb

76 = weiß

Der Weihnachtsmann hat verschiedene Pakete gepackt.

Miss nach, wie breit diese sind.



__ cm __ mm



__ cm __ mm



__ cm __ mm



__ cm __ mm









__ cm __ mm



__ cm __ mm

Der Weihnachtsmann braucht Hilfe.
 Er muss Briefe und Pakete ordnen.
 Male die Pakete und die richtigen Briefe gleich an.

	$63 - 8$	
	$77 + 5$	
	$82 - 8$	
	$49 + 6$	
	$65 + 9$	
$90 - 8$	$42 - 5$	
	$70 - 7$	
	$29 + 8$	
$52 - 6$	$38 + 8$	
	$55 + 8$	

Für die Eichhörnchen
 habe ich im Herbst
 100 Nüsse gesammelt.
 Vor 3 Tagen habe ich
 die Nüsse in den
 Garten gelegt.

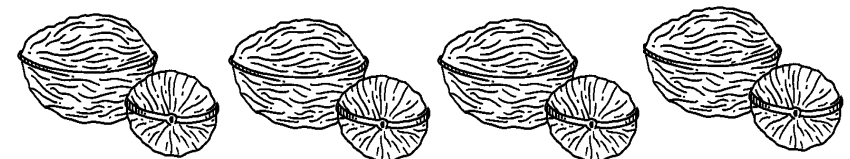


Am 1. Tag waren 8 Nüsse weg,
 am 2. Tag fraßen sie 6 Nüsse
 und am 3. Tag fehlten weitere 7 Nüsse.

Frage : Wie viele Nüsse sind noch da?

Rechnung : _____

Antwort : _____



Marie wünscht sich Schlittschuhe.
Sie kosten 53 €.

53 €



In Ihrem Sparschwein sind

_____ €



schenkt ihr der Opa.

Nun hat Marie _____ €.

Aber leider reicht ihr Geld immer noch nicht.

Es fehlen noch _____ €.



bekommt Marie von Oma.

Da freut sich Marie und ruft laut :
„Jetzt reicht das Geld!



Es bleiben sogar noch _____ € übrig!"

Märchenstunde



Vor Weihnachten
kommt Oma oft zu
Besuch.
Sie bringt ihr großes
Märchenbuch mit und
liest mir vor.



Seite _____

3 Märchen hat sie schon gelesen.
Das 1. Märchen hatte 8 Seiten, das 2. Märchen
hatte 7 Seiten und das 3. Märchen hatte 9 Seiten.
Frage : Auf welcher Seite liegt das Lesezeichen?

Rechnung : _____

Heute wollen wir 2 Märchen lesen.
Jedes Märchen hat 8 Seiten.
Frage : Wo liegt unser Lesezeichen dann?

Rechnung : _____

Antwort : _____



Seite _____