

## Leistungsaufgabe

- 1 Jeweils eine Boxenordnung, eine Gleichung, eine Tabelle und ein Text beschreiben die gleiche Situation. Welche gehören zusammen?

Gleichungen:

A  $2x = y + 1$    B  $2y = x + 3$    C  $x + y = 6$    D  $2x + y = x + 7$

Texte:

- A In zwei dunklen Schachteln liegen drei Hölzchen mehr als in einer hellen.  
 B In einer dunklen und in einer hellen Schachtel liegen zusammen sechs Hölzchen.  
 C In zwei hellen Schachteln liegt ein Hölzchen mehr als in einer dunklen.  
 D In einer dunklen und zwei hellen Schachteln liegen sieben Hölzchen mehr als in einer hellen Schachtel.

Tabellen:

A

1	3	5	7	9	11
2	3	4	5	6	7

B

1	2	3	4	5	6
6	5	4	3	2	1

C

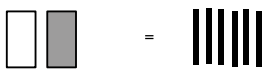
1	2	3	4	5	6
5	4	3	2	1	0

D

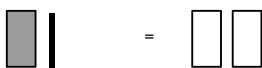
1	2	3	4	5	6
1	3	5	7	9	11

Bilder:

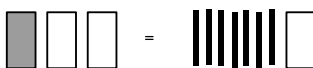
A



B



C



D

