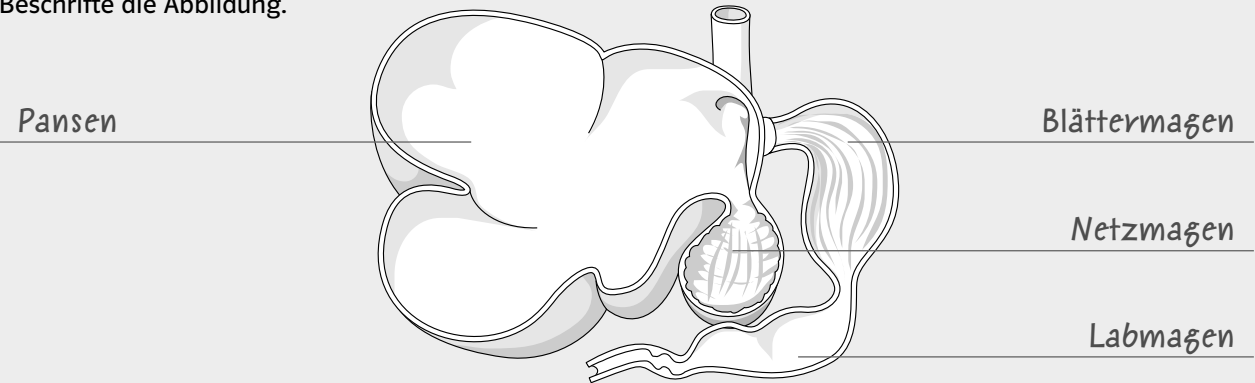
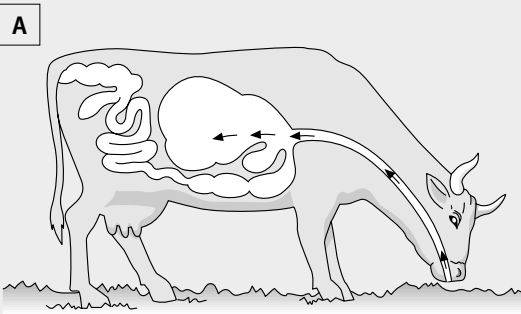


# Das Rind – ein Wiederkäuer

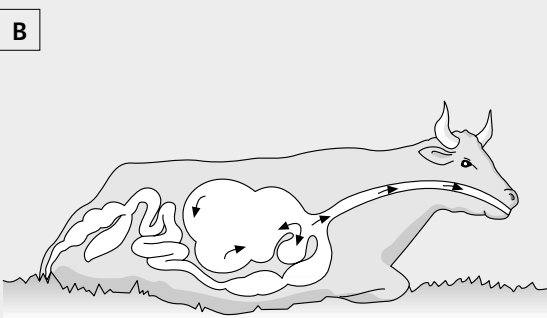
1 Das Rind hat einen vierteiligen Magen. Beschrifte die Abbildung.



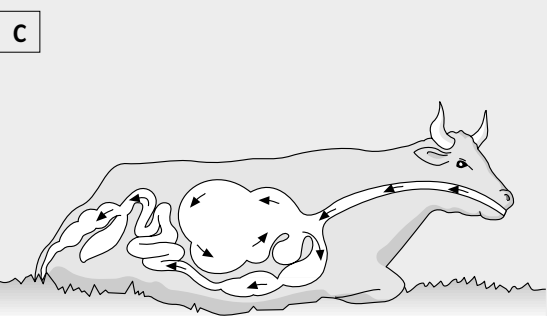
2 Was tut die Kuh auf den Abbildungen A, B und C? Achte auf die Pfeile, die den Weg der Nahrung grob veranschaulichen.



Die Kuh frisst Gras und schluckt es herunter. Die aufgenommene Nahrung gelangt in den Pansen.



Die Kuh kät wieder. Die aufgenommene Nahrung gelangt zurück ins Maul und wird zum zweiten Mal gekaut.



Die Kuh verdaut das Futter. Die wiedergekäute Nahrung gelangt erneut in den Pansen und wird von dort aus weitertransportiert.