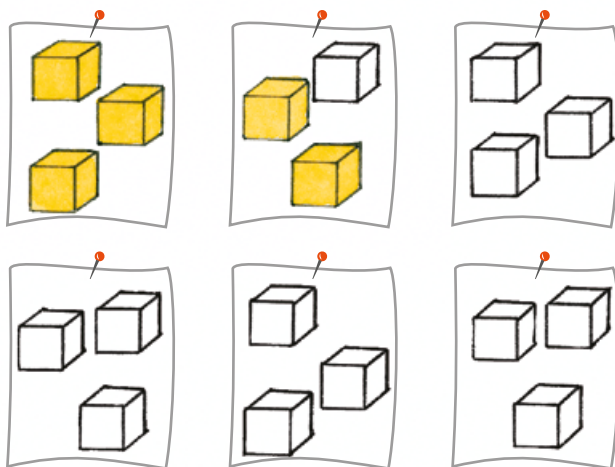



1 Benedix hat viele gelbe und blaue Steckwürfel.


a) Wie viele verschiedene Haufen mit je 3 Würfeln kann er daraus bilden?

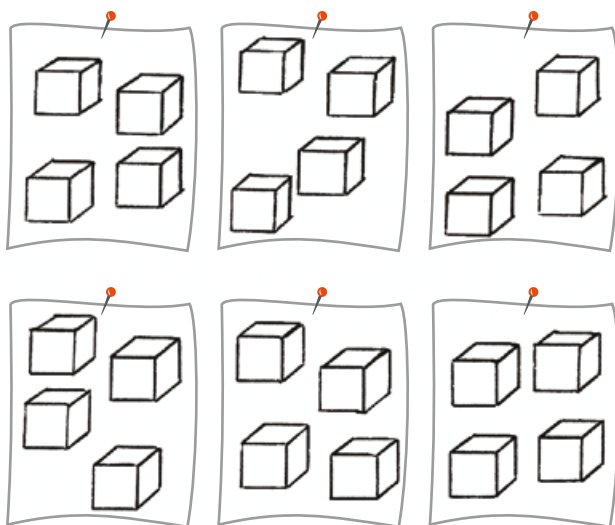



b) Wie viele verschiedene 3-stöckige Türme kann er daraus bauen?



2 Alina hat auch viele gelbe und blaue Würfel. Sie bildet Haufen und Türme mit je 4 Würfeln.

 a) Wie viele verschiedene Haufen mit je 4 Würfeln kann sie daraus bilden?



 b) Wie viele verschiedene 4-stöckige Türme kann sie daraus bauen?

