


1 Auf dem Schulfest kann man Glücksräder drehen. Man gewinnt, wenn der Zeiger auf ein **orangefarbenes** Feld zeigt. An welchem Glücksrad würdet ihr lieber drehen? Begründet!



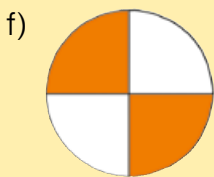
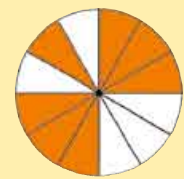
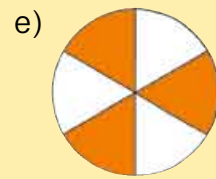
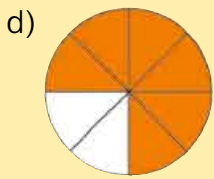
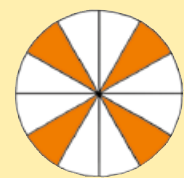
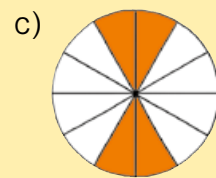
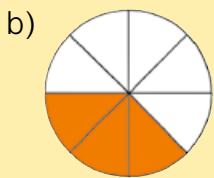
a) Ich drehe an diesem Glücksrad.



Ich drehe lieber an diesem!



Wir könnten uns ja Glücksräder bauen und es ausprobieren.



Letztes Jahr gab es sogar 4 Glücksräder.

2 Die Klasse 4b hat Glücksräder gezeichnet. Wie könnten sie aussehen? Zeichne mögliche Glücksräder. Wo gibt es mehrere Möglichkeiten?

Emma
Bei meinem Glücksrad sind die Chancen zu gewinnen und zu verlieren genau gleich groß.

Maximilian
Bei meinem Glücksrad ist die Chance zu gewinnen größer als die Chance zu verlieren!

Lilly
Bei meinem Glücksrad ist die Chance zu verlieren leider größer als die Chance zu gewinnen!

Timur
Bei meinem Glücksrad ist es leider unmöglich zu gewinnen.

Büdra
Hurra! Bei meinem Glücksrad gewinnt man sicher.

Adrian
Und bei meinem Glücksrad gewinnt man fast sicher.