




1 Alina hat 3 Buntstifte.
 Sie möchte jedes Gesicht mit
 allen 3 Farben anmalen.
 Mara behauptet, dass es genau 6 Möglichkeiten gibt.
 Hat Mara recht? Löse durch Probieren.



Verwende für die
 2 Augen immer
 nur eine Farbe.



2 Die Klasse 2a bastelt zweifarbige Blumen als Fensterschmuck.
 Die Lehrerin hat dafür Buntpapier in 3 Farben zurechtgelegt.
 a) Wie viele unterschiedliche Möglichkeiten gibt es,
 um diese Blume zu gestalten? Zeichne auf.



b) Die Lehrerin bringt noch violettes Buntpapier dazu.
 Wie viele Möglichkeiten sind es jetzt?



3 Schreibe selbst eine Aufgabe zur Abbildung und löse sie.

