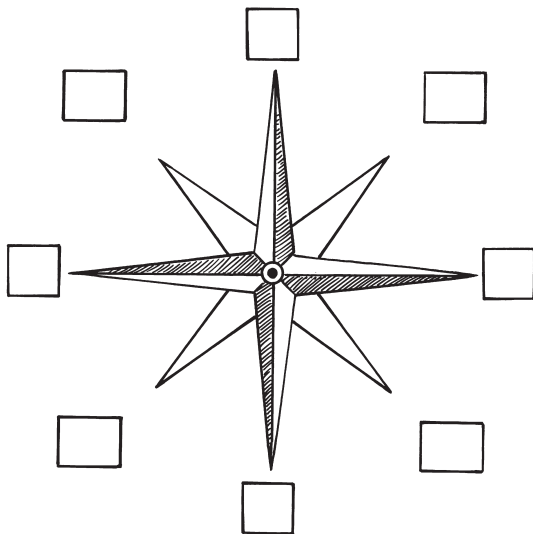


Orientieren im Gelände



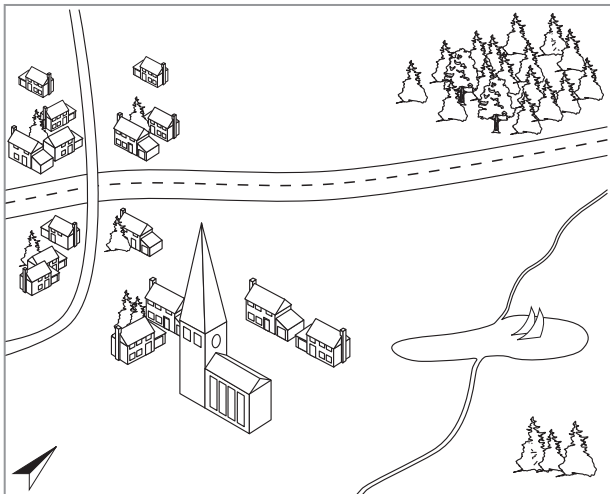
1

Ergänze die fehlenden Himmelsrichtungen.



2

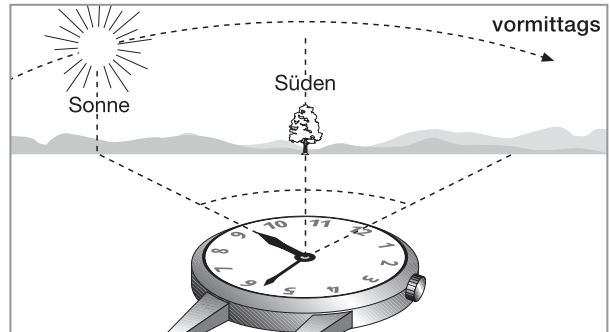
Stelle mit Hilfe der Skizze Lagebeziehungen her und vervollständige den Lückentext.




Der Wald befindet sich _____
 von der Siedlung. Der See liegt _____
 von der Stadt. Die Autobahn verläuft von
 _____ nach _____.
 Die Kirche befindet sich im _____
 der Stadt in _____
 Richtung vom See.

3

a) Am Tag kannst du dich mit einer Uhr und der Sonne orientieren. Notiere mithilfe der Zeichnung eine Regel.



b) Bestimme die Nordrichtung um 14.20 Uhr und trage sie in die Abbildung ein.



c) Kathrin und Peter kennen noch andere Regeln zur Orientierung im Gelände. Hilf ihnen bei der Formulierung.

Kirchen baute man früher meist in Ost-West-Richtung, den Altar mit Blick zur aufgehenden Sonne, den Turm nach _____

Da bei uns oft der Wind aus Westen weht, sind frei stehende Bäume meist nach _____ geneigt und an der _____-seite bemoost.

