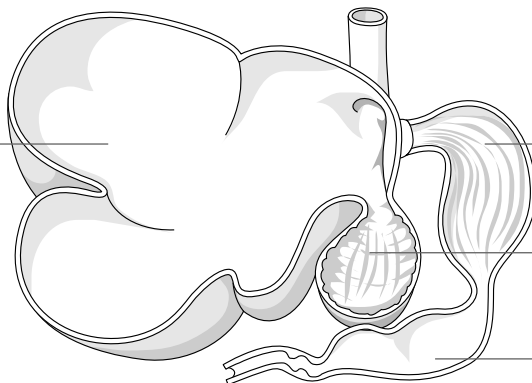


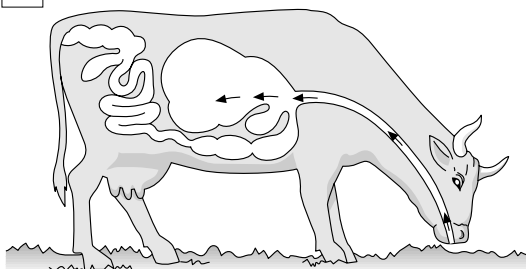
Das Rind – ein Wiederkäuer

1 Das Rind hat einen vierteiligen Magen.
Beschrifte die Abbildung.

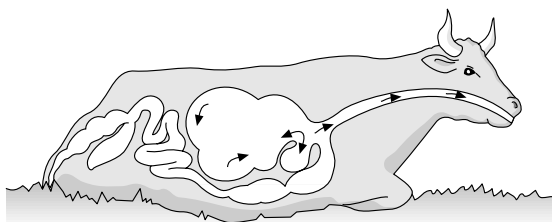


2 Was tut die Kuh auf den Abbildungen A, B und C? Achte auf die Pfeile, die den Weg der Nahrung grob veranschaulichen.

A



B



C

