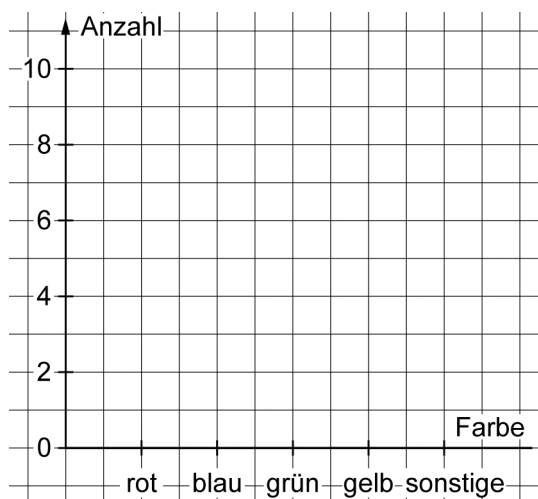


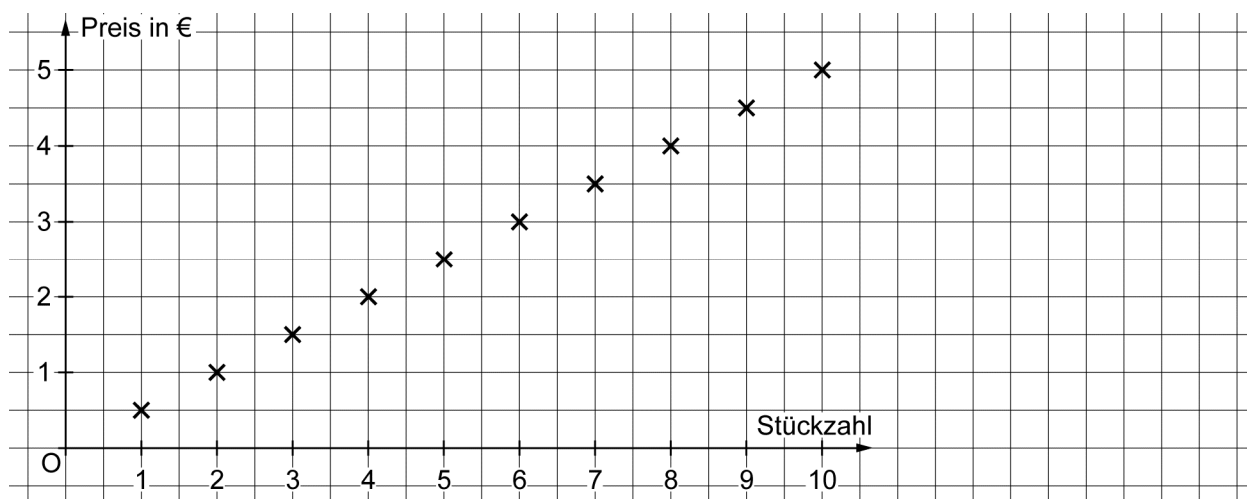
Zuordnungen und Schaubilder

1 Die Schülerinnen und Schüler der Klasse 6 c haben über ihre Lieblingsfarben abgestimmt. Trage die Werte zu dieser Tabelle in das Diagramm ein.

Farbe	rot	blau	grün	gelb	sonstige
Anzahl	10	9	7	3	2

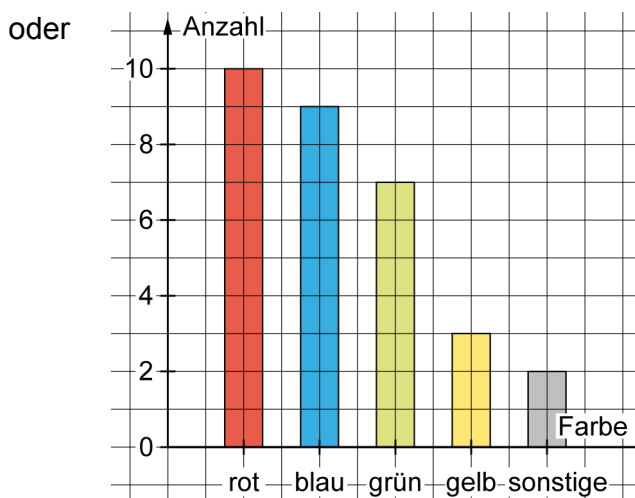
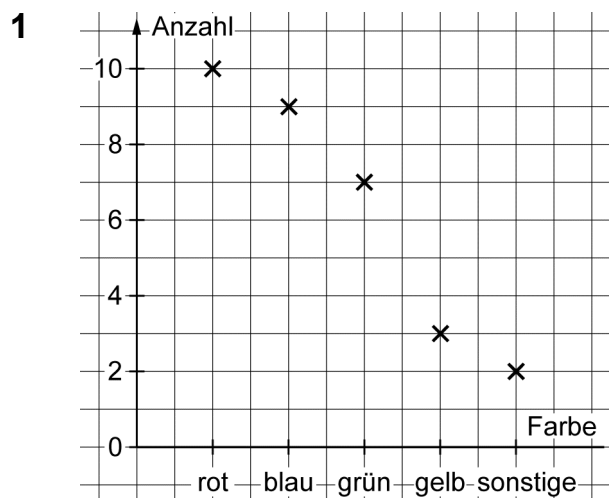


2 Im Schulkiosk gibt es Müsliriegel zu kaufen. Übertrage die Werte für die Anzahl von Müsliriegeln und die dazugehörigen Preise in die Tabelle.



Anzahl	1	2	3	4	5	6				
Preis in €	0,50	1,00								

Zuordnungen und Schaubilder – Lösungen



2

Anzahl	1	2	3	4	5	6	7	8	9	10
Preis in €	0,50	1,00	1,50	2,00	2,50	3,00	3,50	4,00	4,50	5,00