


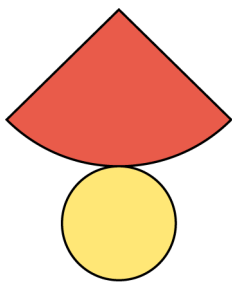
Zylinder Kegel Kugel

1 Hier siehst du verschiedene Körper.



- a) Welcher Körper ist ein Zylinder? _____
- b) Welcher Körper ist ein Kegel? _____
- c) Welcher Körper ist eine Kugel? _____

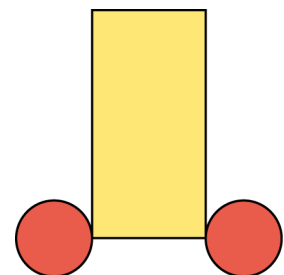
2 Was gehört zusammen? Verbinde.



Zylinder



Kegel



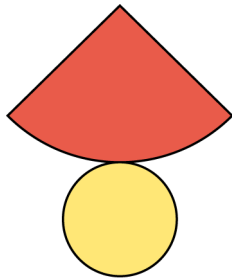
Zylinder Kegel Kugel – Lösung

1

- a) I
- b) G
- c) J

2

Kegel



Zylinder

