
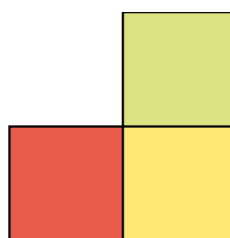
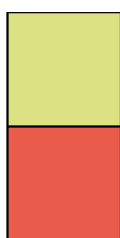
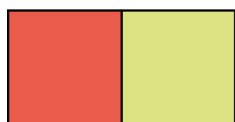
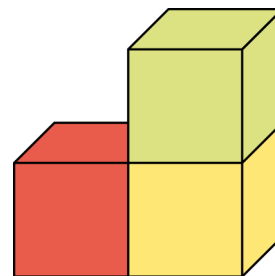


Grundriss. Aufriss

1 Rechts siehst du ein Würfelgebäude. Es wird aus verschiedenen Richtungen betrachtet. Verbinde die Kärtchen mit den passenden Abbildungen.



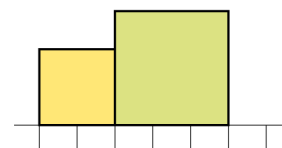
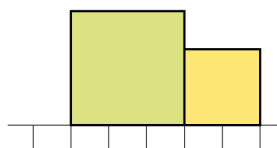
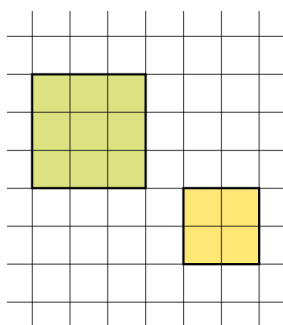
Ansicht von oben: Grundriss

Ansicht von vorne: Aufriss

Seitenansicht von links

Seitenansicht von rechts

2 Auf einem Grundrissblatt stehen zwei Würfel. Verbinde die Kärtchen mit den passenden Abbildungen.



Ansicht von vorne: Aufriss

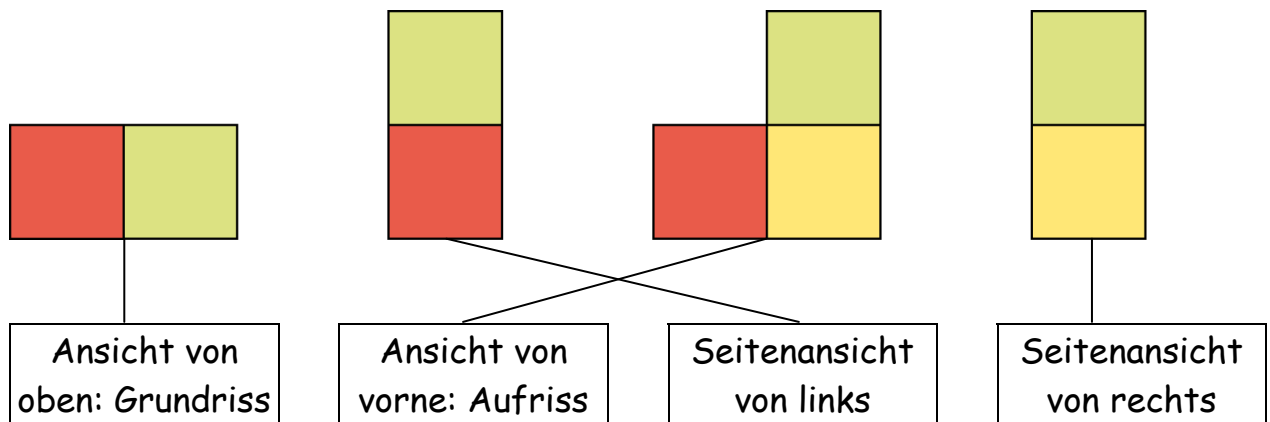
Ansicht von oben: Grundriss

Seitenansicht von rechts

Seitenansicht von links

Grundriss. Aufriss – Lösung

1



2

