



Geld


Julia hat Geld gespart. Sie geht zur Bank und zahlt ihr Geld ein.


1 Ergänze, wie viel Geld Julia in jeder Art von Münzen hat:


52 ·  = 52 ct oder 0,52 €


49 ·  = _____ ct oder 0,98 €


44 ·  = _____ ct oder 2,20 € oder 2 € 20 ct

41 ·  = _____ ct oder 4,10 € oder 4 € 10 ct

53 ·  = _____ ct oder _____ € oder 10 € 60 ct

3 ·  = _____ ct oder _____ € oder _____ € _____ ct






4 ·  = _____ ct oder _____ € oder 4 € 0 ct

8 ·  = _____ ct oder _____ € oder _____ € _____ ct

2 Insgesamt hat Julia eingezahlt:

Sachrechnen | Fördern

Geld – Lösung

- 1 52 ·  = 52 ct oder 0,52 €
- 49 ·  = 98 ct oder 0,98 €
- 44 ·  = 220 ct oder 2,20 € oder 2 € 20 ct
- 41 ·  = 410 ct oder 4,10 € oder 4 € 10 ct
- 53 ·  = 1060 ct oder 10,60 € oder 10 € 60 ct
- 3 ·  = 150 ct oder 1,50 € oder 1 € 50 ct
- 4 ·  = 400 ct oder 4 € oder 4 € 0 ct
- 8 ·  = 800 ct oder 8 € oder 8 € 0 ct

2 Insgesamt hat Julia eingezahlt: 31,90 €