


Natürliche Zahlen | Fördern

Natürliche Zahlen

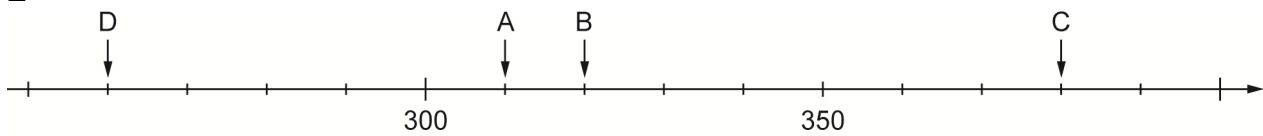


a) Welches ist die kleinste Zahl, die hier abgebildet ist? _____

b) Welches ist die größte Zahl, die hier abgebildet ist? _____

c) Ergänze die Beschriftung am Zahlenstrahl.

2



a) Vervollständige die Beschriftung am Zahlenstrahl.

b) Auf welche Zahlen zeigen die Pfeile?

A: _____ B: _____ C: _____ D: _____

3 Setze das richtige Zeichen ein: > (größer) oder < (kleiner).

a) 320 310

b) 380 320

c) 310 380


d) 260 380

Natürliche Zahlen | Fördern

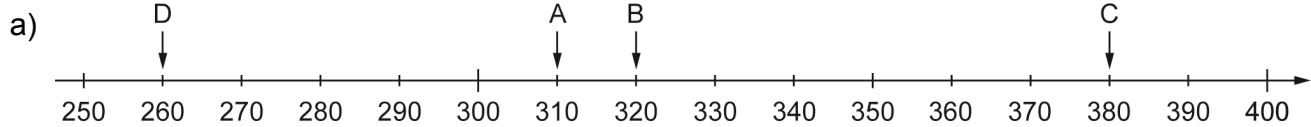
Natürliche Zahlen – Lösung

1

- a) 0
- b) 500



2



- b) A: 310 B: 320 C: 380 D: 260

3

- a) $320 > 310$ b) $380 > 320$ c) $310 < 380$ d) $260 < 380$