

Standpunkt | Daten

Wo stehe ich?

Ich kann ...

Ich kann ...	gut	etwas	nicht gut	Lerntipp!
A mithilfe einer Strichliste zählen,	■	■	■	→ Seite 233
B Strichlisten auszählen,	■	■	■	→ Seite 233
C Tabellen erstellen,	■	■	■	→ Seite 233
D Diagramme zeichnen,	■	■	■	→ Seite 234
E Daten aus Diagrammen ablesen,	■	■	■	→ Seite 234
F Informationen aus einem Schaubild entnehmen.	■	■	■	→ Seite 234

Überprüfe dich selbst:

Teste dich
v9z2b8

- A** Die Schüler der Klasse 5 wurden nach ihrer Schuhgröße gefragt. Die Antworten waren:
33; 36; 34; 37; 34; 38; 35; 36; 34; 35; 37; 32; 36; 36; 34; 35; 34; 33; 37; 36.
Vervollständige die Tabelle in deinem Heft.

Schuhgröße	Anzahl
Schuhgröße 32	I
Schuhgröße 33	II
Schuhgröße 34	...

- B** Eine Umfrage in allen fünften Klassen zu Haustieren hatte folgendes Ergebnis:

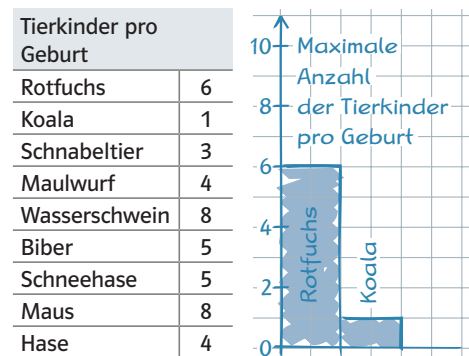
Hund	
Katze	
Fische	
Kaninchen	
Hamster	
andere	

Schreibe in dein Heft, wie viele es von den einzelnen Haustieren gibt.

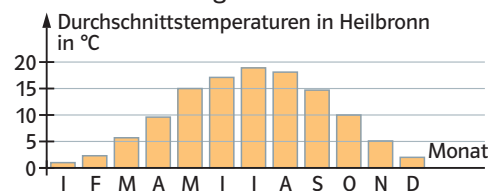
- C** In der Klasse 5a haben 8 Mädchen und 10 Jungen ein eigenes Handy. 7 Jungen und 4 Mädchen haben einen eigenen Computer. Fülle die Tabelle in deinem Heft aus.

	Handy	Computer
Mädchen	■	■
Jungen	■	■

- D** Übertrage das Säulendiagramm in dein Heft und vervollständige es.

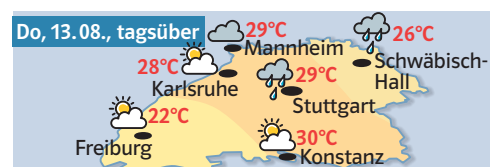


- E** Betrachte das Diagramm.



Wie hoch war die Durchschnittstemperatur im November und wie hoch im Mai?

- F** Betrachte die Wetterkarte.



- a) In welchen Städten hat es geregnet?
b) Wie warm war es am 13.08. in Freiburg?

→ Die Lösungen findest du auf Seite 253.