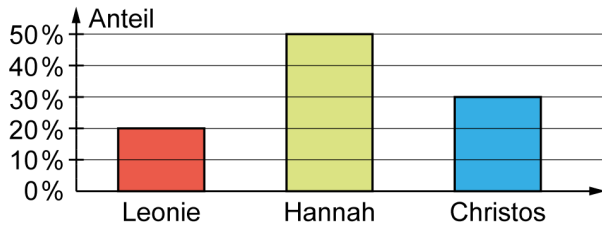


Prozentdiagramme

1 In der Klasse 7a gab es zur Wahl des Klassensprechers folgendes Ergebnis.



a) Wer hat die Wahl gewonnen?

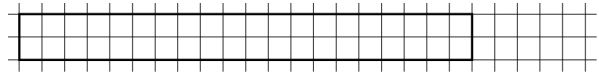
---

2 Das Diagramm zeigt eine Befragung zu Haustieren in der Klasse 7 b.

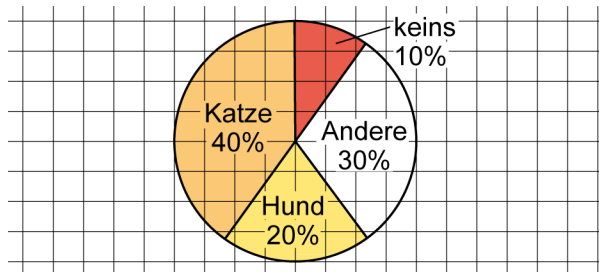
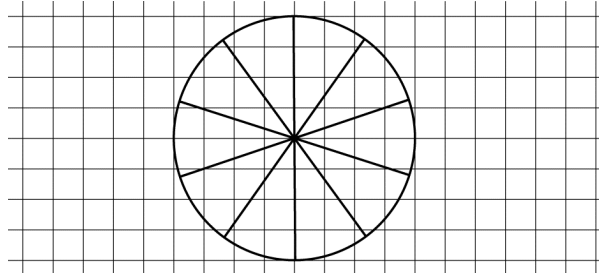
a) Welches Haustier wird am häufigsten genannt?

---

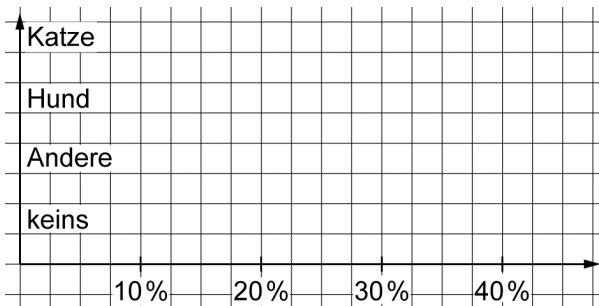
b) Zeichne ein Streifendiagramm.




c) Zeichne ein Kreisdiagramm.



b) Zeichne ein passendes Balkendiagramm.



c) Zeichne ein Säulendiagramm.



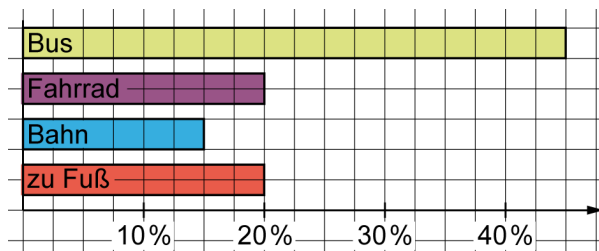
3 In der 7 c wurde nach der Nutzung von Laptop, Tablet und Smartphone gefragt. Mit welchem Gerät gehen die wenigsten Schülerinnen und Schüler ins Internet?

---



4 Das Balkendiagramm zeigt, wie die Schülerinnen und Schüler der Klasse 7 d zur Schule kommen. Welche beiden Transportmittel werden gleich oft genannt?

---

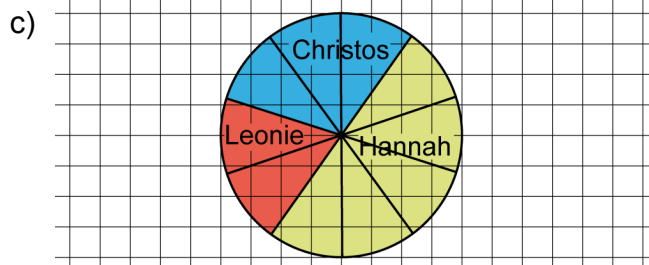


## Prozente | Fördern

### Prozentdiagramme – Lösung

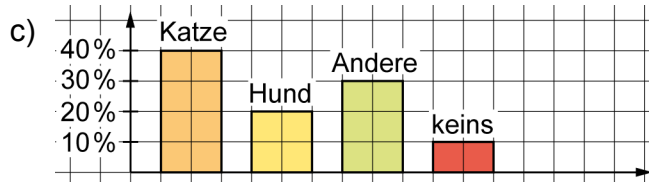
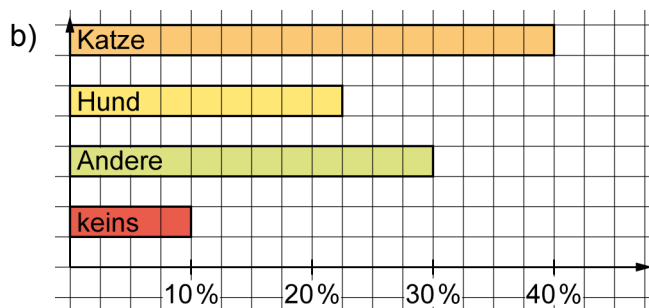
1

a) Hannah hat die Wahl gewonnen.



2

a) Die Katze wird am häufigsten genannt.



3 Die wenigsten Schüler gehen mit dem Smartphone ins Internet.

4 Fahrrad und Fußweg werden gleich oft genannt.