

Zunahme und Abnahme

1 Ist die Änderung eine Zunahme oder eine Abnahme? Kreuze an.

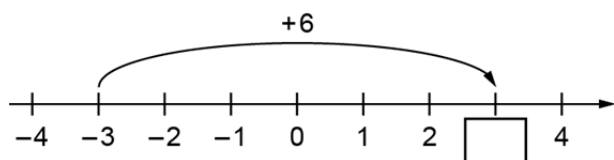
	Zunahme	Abnahme
a) Emre bekommt 5€ Taschengeld.	<input type="checkbox"/>	<input type="checkbox"/>
b) Die Temperatur sinkt um 3 °C.	<input type="checkbox"/>	<input type="checkbox"/>
c) Jan fährt mit der Seilbahn 80m hinunter ins Tal.	<input type="checkbox"/>	<input type="checkbox"/>

2 Beschreibe die Änderung mithilfe einer positiven oder einer negativen Zahl.

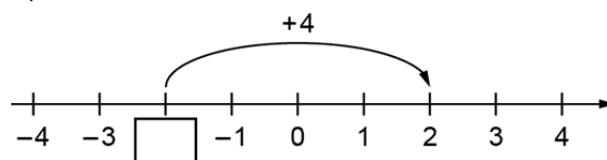
- a) Ein Heißluftballon steigt um 500 m.
- b) Elif läuft 3 Treppen nach unten.
- c) Der Wasserspiegel fällt um 1,4 cm.

3 Ergänze die fehlenden Werte.

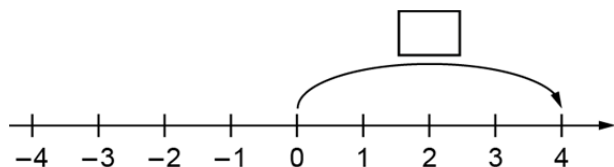
a)



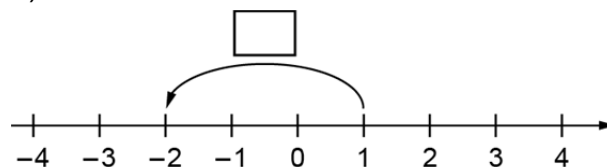
b)



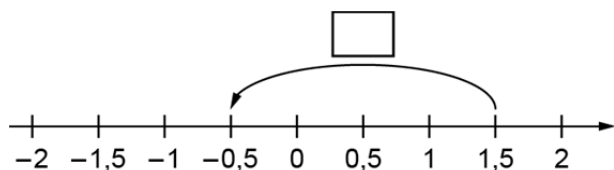
c)



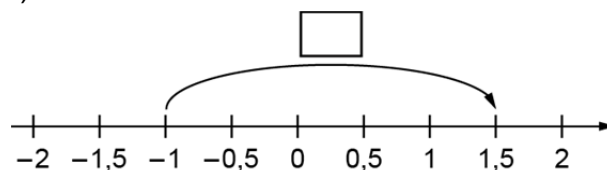
d)



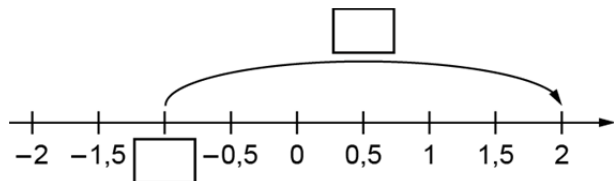
e)



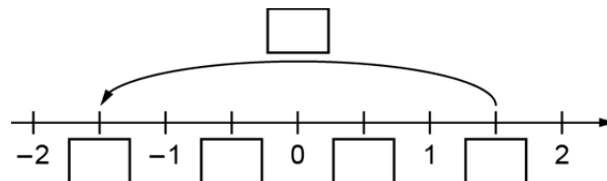
f)



g)



h)



Rationale Zahlen | Fördern

Zunahme und Abnahme – Lösung

1

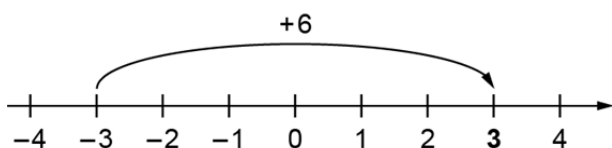
	Zunahme	Abnahme
a) Emre bekommt 5€ Taschengeld.	<input checked="" type="checkbox"/>	<input type="checkbox"/>
b) Die Temperatur sinkt um 3 °C.	<input type="checkbox"/>	<input checked="" type="checkbox"/>
c) Jan fährt mit der Seilbahn 80m hinunter ins Tal.	<input type="checkbox"/>	<input checked="" type="checkbox"/>

2

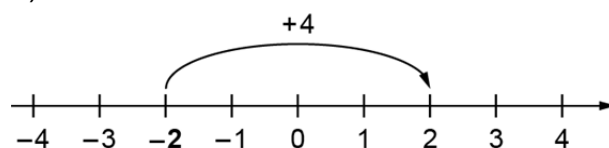
- a) +500
- b) -3
- c) -1,4

3

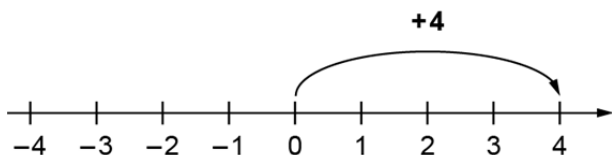
a)



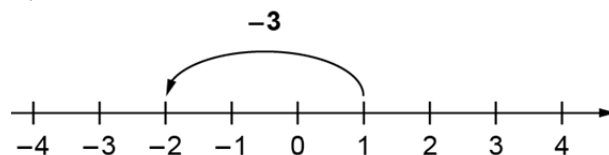
b)



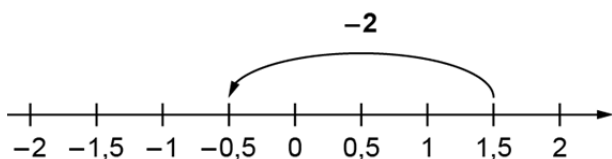
c)



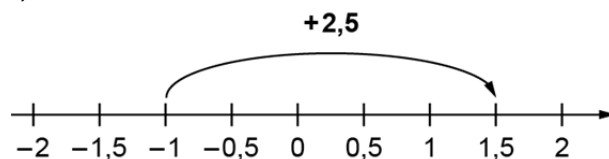
d)



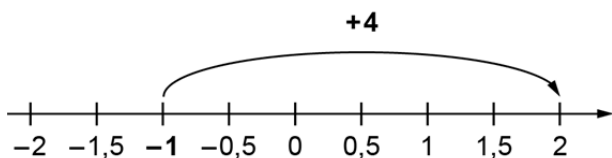
e)



f)



g)



h)

