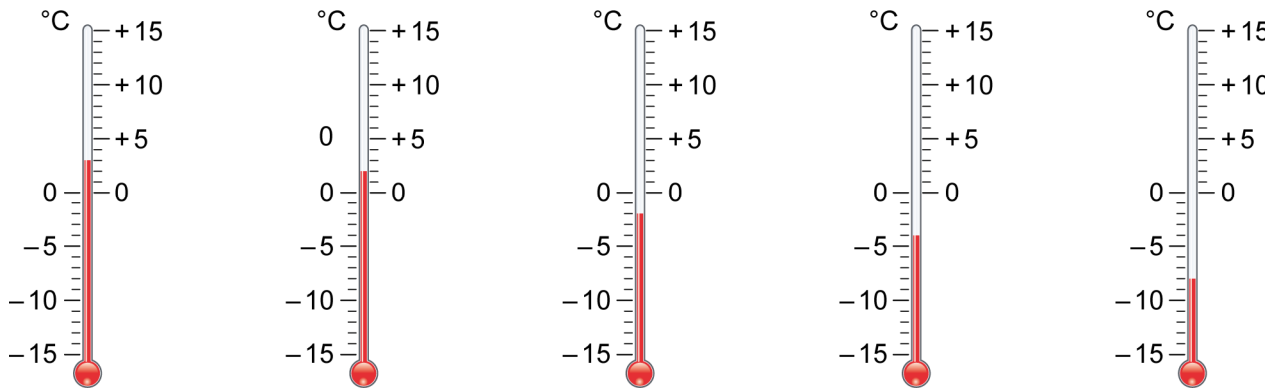


Ganze Zahlen vergleichen und ordnen

1

a) Verbinde die Temperaturen mit den passenden Thermometern.

Freiburg +2°C	Ihringen +3°C	Todtnau -2°C	Belchen -8°C	Titisee -4°C
------------------	------------------	-----------------	-----------------	-----------------

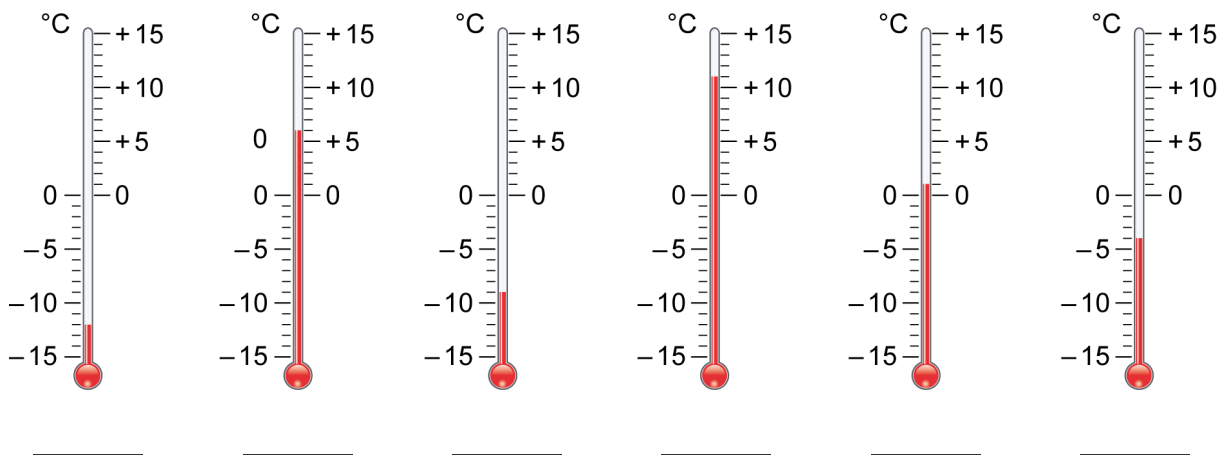


b) Ordne die Temperaturen von der niedrigsten zur höchsten Temperatur.

_____ < _____ < _____ < _____ < _____

2

a) Lies die Temperaturen ab.



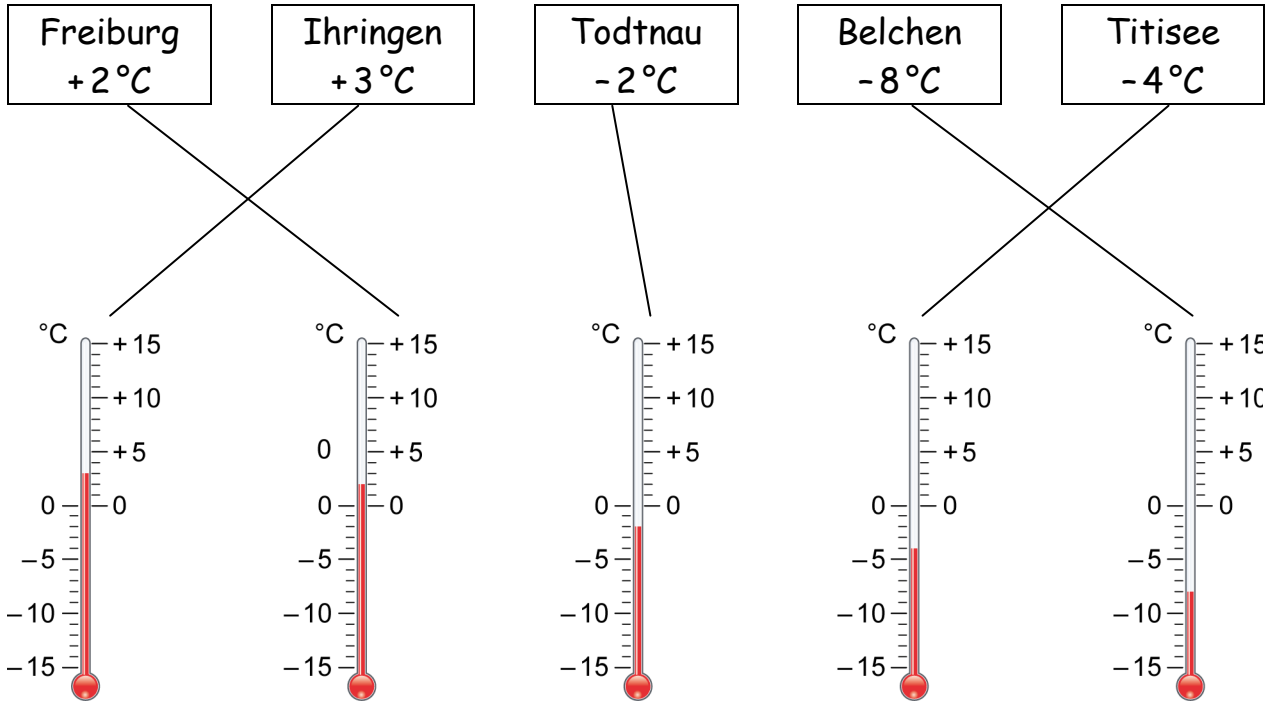
b) Ordne die Temperaturen von der niedrigsten zur höchsten Temperatur.

_____ < _____ < _____ < _____ < _____ < _____ < _____ < _____ < _____

Ganze Zahlen vergleichen und ordnen – Lösungen

1

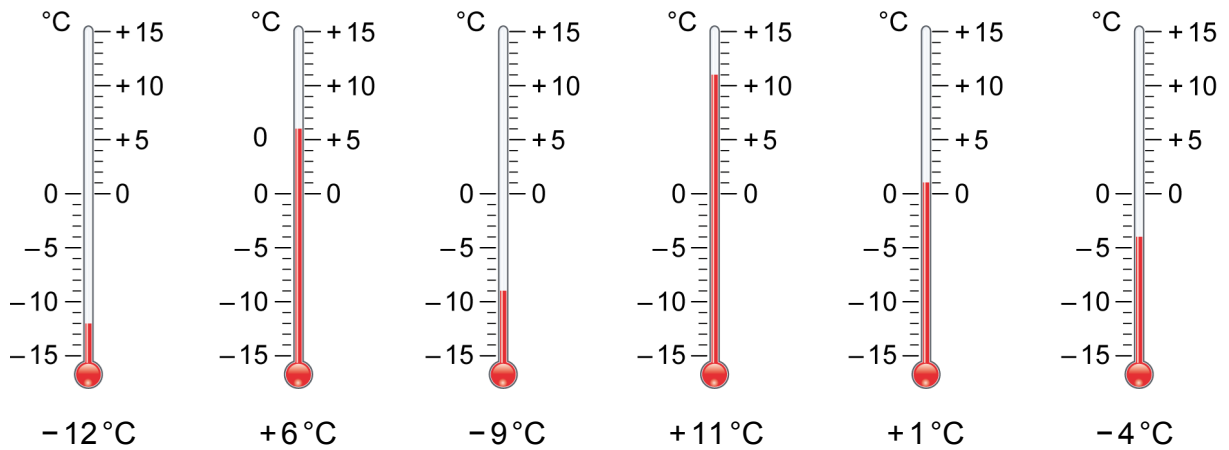
a)



b) $-8^{\circ}\text{C} < -4^{\circ}\text{C} < -2^{\circ}\text{C} < +2^{\circ}\text{C} < +3^{\circ}\text{C}$

2

a)



b) $-12^{\circ}\text{C} < -9^{\circ}\text{C} < -4^{\circ}\text{C} < +1^{\circ}\text{C} < +6^{\circ}\text{C} < +11^{\circ}\text{C}$