

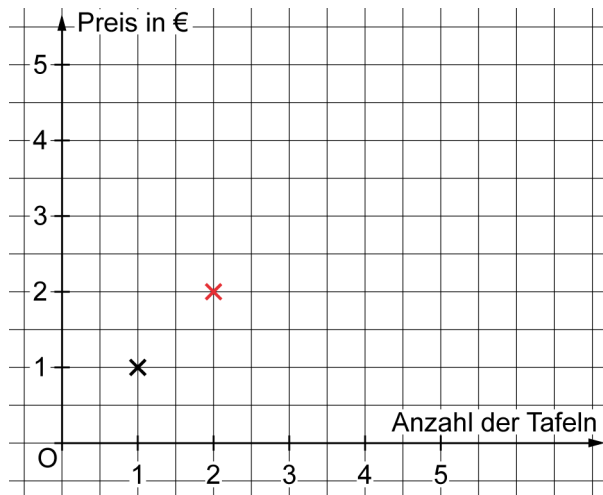
Schaubilder proportionaler Zuordnungen

1 Eine Tafel Schokolade kostet 1€.

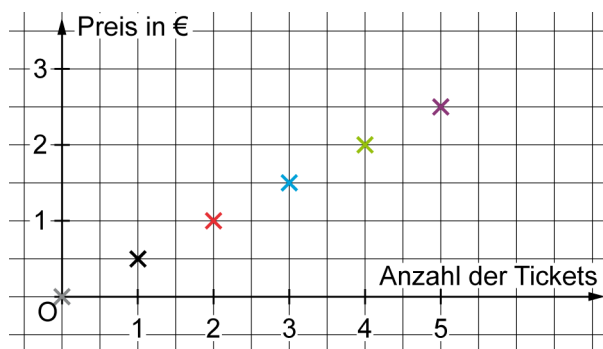
a) Ergänze die Tabelle der proportionalen Zuordnung.

Anzahl der Tafeln	0	1	2	3	4	5
Preis in €	0	1	2			

b) Übertrage die Werte der Tabelle in das Schaubild.



2 Übertrage die Werte des Schaubilds in die Tabelle.



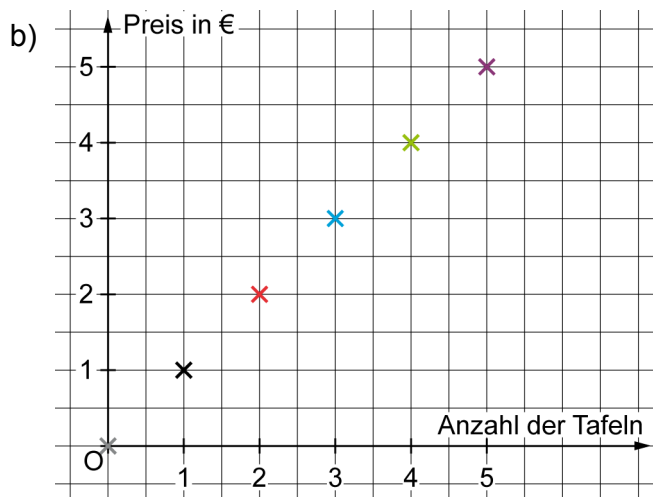
Anzahl der Tickets	0	1	2	3	4	5
Preis in €	0	0,50				

Zuordnungen | Fördern

Schaubilder proportionaler Zuordnungen – Lösungen

1

a) Anzahl der Tafeln	0	1	2	3	4	5
Preis in €	0	1	2	3	4	5



2

Anzahl der Tickets	0	1	2	3	4	5
Preis in €	0	0,50	1,00	1,50	2,00	2,50