


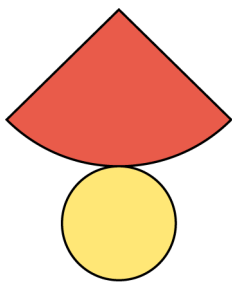
Zylinder. Kegel. Kugel

1 Hier siehst du verschiedene Körper.



- a) Welcher Körper ist ein Zylinder? \_\_\_\_\_
- b) Welcher Körper ist ein Kegel? \_\_\_\_\_
- c) Welcher Körper ist eine Kugel? \_\_\_\_\_

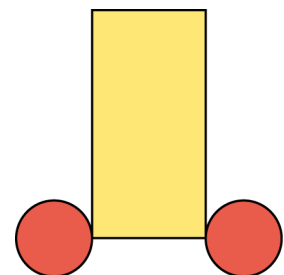
2 Was gehört zusammen? Verbinde.



Zylinder



Kegel



## Körper | Fördern

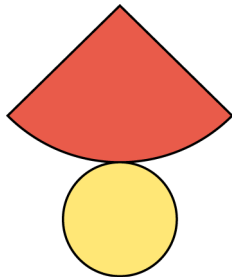
### Zylinder. Kegel. Kugel – Lösung

1

- a) I
- b) G
- c) J

2

Kegel



Zylinder

