



Schätzen

1 Hier soll die ungefähre Anzahl der Schoko-Linsen bestimmt werden:



Du kannst sehen, dass die Schoko-Linsen recht gleichmäßig verteilt sind.
Dann kannst du ein Raster aus gleich großen Teilen über das Bild zeichnen:




Anzahl Schoko-Linsen
in **einem** Rasterfeld: _____

Schoko-Linsen insgesamt:

10 · _____ = _____

2 Schätze die Anzahl der Kakao-Bohnen.

a) Zeichne ein Raster aus gleich großen Teilen über das Bild.




b) Anzahl Kakao-Bohnen
in **einem** Rasterfeld: _____

Kakao-Bohnen insgesamt:

Schätzen – Lösung

1

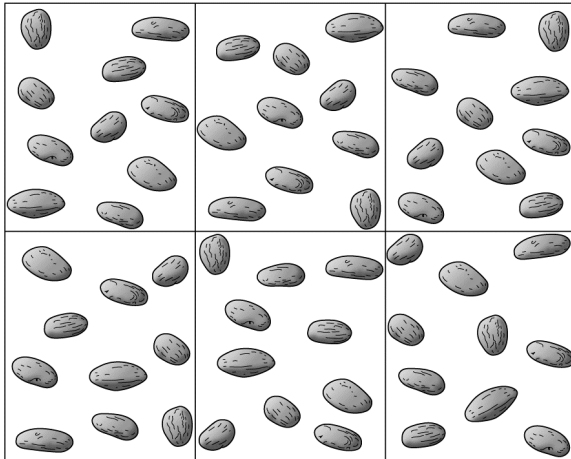


Anzahl Schoko-Linsen
in **einem** Rasterfeld: 10

Schoko-Linsen insgesamt:
 $10 \cdot 10 = 100$

2 Mögliche Lösung:

a)



b) Anzahl Kakao-Bohnen
in **einem** Rasterfeld: 10

Kakao-Bohnen insgesamt:
 $6 \cdot 10 = 60$