

# Standpunkt | Natürliche Zahlen

## Wo stehe ich?

### Ich kann ...

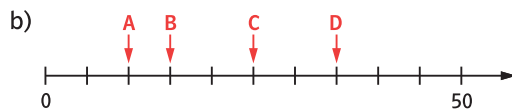
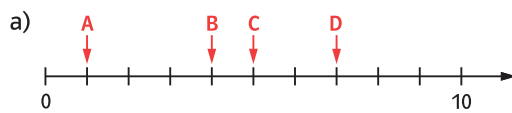
- A Zahlen auf einem Zahlenstrahl ablesen,
- B Zahlen auf einem Zahlenstrahl markieren,
- C Zahlen in eine Stellenwerttafel eintragen,
- D in Stellenwerte zerlegte Zahlen erkennen,
- E Zahlen in Worten schreiben und lesen,
- F Vorgänger und Nachfolger einer Zahl nennen,
- G Zahlen nach ihrer Größe ordnen,
- H Zahlen runden.

	gut	etwas	nicht gut	Lerntipp!
A	<input checked="" type="checkbox"/>	<input checked="" type="checkbox"/>	<input checked="" type="checkbox"/>	→ Seite 243
B	<input checked="" type="checkbox"/>	<input checked="" type="checkbox"/>	<input checked="" type="checkbox"/>	→ Seite 243
C	<input checked="" type="checkbox"/>	<input checked="" type="checkbox"/>	<input checked="" type="checkbox"/>	→ Seite 243
D	<input checked="" type="checkbox"/>	<input checked="" type="checkbox"/>	<input checked="" type="checkbox"/>	→ Seite 244
E	<input checked="" type="checkbox"/>	<input checked="" type="checkbox"/>	<input checked="" type="checkbox"/>	→ Seite 244
F	<input checked="" type="checkbox"/>	<input checked="" type="checkbox"/>	<input checked="" type="checkbox"/>	→ Seite 245
G	<input checked="" type="checkbox"/>	<input checked="" type="checkbox"/>	<input checked="" type="checkbox"/>	→ Seite 245
H	<input checked="" type="checkbox"/>	<input checked="" type="checkbox"/>	<input checked="" type="checkbox"/>	→ Seite 245

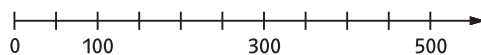
### Überprüfe dich selbst:

Teste dich  
h548mq

**A** Auf welche Zahlen zeigen die Pfeile?



**B** Übertrage den Zahlenstrahl ins Heft und markiere folgende Zahlen: 50; 200; 350; 400.



**C** Trage die folgenden Zahlen in eine Stellenwerttafel ein: 78; 819; 2389; 17035; 230081.

Beispiel:

Zahl	HT	ZT	T	H	Z	E
27026		2	7	0	2	6

**Tipp!**

- E: Einer
- Z: Zehner
- H: Hunderter
- T: Tausender
- ZT: Zehntausender
- HT: Hunderttausender

**D** Wie heißt die Zahl?

- a) 5T + 8H + 4Z + 3E
- b) 3ZT + 8T + 9H + 2Z + 8E
- c) 7HT + 3ZT + 9T + 8H + 1E
- d) 9ZT + 6Z

**E** Ordne die Zahlen den Zahlwörtern zu.

E 1020	A einhundertzwanzig
F 26	B sechsundzwanzig
G 120	C eintausendzwanzig
H 62	D zweiundsechzig

**F**

- a) Notiere den Vorgänger der Zahl. 18; 221; 2670; 15000
- b) Notiere den Nachfolger der Zahl. 287; 3220; 5889; 12399

**G** Ordne die Zahlen nach ihrer Größe. Beginne mit der kleinsten Zahl.

- a) 100; 1005; 10005; 215; 305
- b) 2649; 2469; 2694; 2496; 2650

**H** Runde die Zahlen auf

- a) Zehner: 57; 63; 545; 32464.
- b) Hunderter: 847; 882; 3151; 37834.

→ Die Lösungen findest du auf Seite 263.