

Standpunkt

Online-Link
zum Standpunkt
742861-1721

Online-Links
zu Kapitel 9
742861-0009

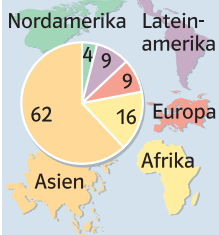
Du musst verstehen!
Aus Eins mach Zehn
und Zwei lass gehen
und Drei mach gleich,
so bist du reich. Verlier
die Vier! Aus Fünf
und Sechs, so sagt
die Hex, mach Sieben
und Acht, so ist's
vollbracht. Und Neun
und Eins, und Zehn
ist keins. Das ist das
Hexen-Einmaleins.

Johann Wolfgang
von Goethe

Milch ☞☞☞☞☞
Kakao ☞☞☞☞☞☞
Wasser ☞☞
Orangensaft ☞☞☞☞
Energy-Drink ☞☞☞☞☞☞

Es gibt weltweit
mehr als eine Milliarde
Jugendliche.

Von je 100 leben in den
Kontinenten:



Wo stehe ich?

Ich kann...

	gut	weniger gut	etwas	nicht mehr	
1 die Häufigkeit der Zahlen eines Textes in einer Strichliste darstellen,	☐	☐	☐	☐	→ S. 174; 186; 201
2 eine Strichliste in eine Tabelle übertragen,	☐	☐	☐	☐	→ S. 174; 201
3 Aussagen anhand eines Diagramms überprüfen,	☐	☐	☐	☐	→ S. 176; 186; 201
4 eine Tabelle in ein Säulendiagramm übertragen,	☐	☐	☐	☐	→ S. 177; 201
5 Temperaturen aus einem Diagramm ablesen,	☐	☐	☐	☐	→ S. 201
6 einem Diagramm Informationen entnehmen.	☐	☐	☐	☐	→ S. 176; 186; 201

Lerntipp!

Überprüfe deine Einschätzung

1 Wie oft kommen die einzelnen Zahlen im Hexen-Einmaleins auf dem Rand vor? Stelle die Häufigkeit in einer Strichliste dar.

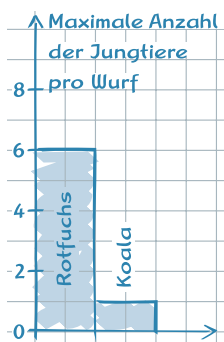
2 Stelle die Lieblingsgetränke der Klasse 6a in einer Tabelle dar.

Getränk	Milch	Kakao	Wasser	O-Saft	Energy-D
	18	☐	☐	☐	☐

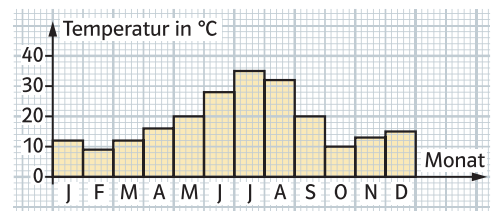
3 Welche Aussagen stimmen? Begründe.
a) In Europa leben 9 Jugendliche.
b) Von 100 Jugendlichen leben 16 in Afrika.
c) Von 100 Jugendlichen leben 84 in Asien, Afrika oder Lateinamerika.

4 Übertrage das Säulendiagramm in dein Heft und vervollständige es.

Jungtiere	pro Wurf
Rotfuchs	6
Koala	1
Schnabeltier	3
Maulwurf	4
Wasserschwein	8
Biber	5
Schneehase	5
Berglemming	5



5 Lies die Temperaturen von Mainz ab und übertrage sie in eine Tabelle.



6 Das Diagramm zeigt die beliebtesten Kinder-Freizeitbeschäftigungen.

So verbringen 8- bis 13-jährige ihre Freizeit (in %):

	Mädchen	Jungen	
Freunde	79	82	Freunde
Musikhören	63	68	Radfahren
Radfahren	48	58	Fußballspielen
Malen	47	50	Musikhören
Tiere	36	33	Computer
Sport	36	32	Handspielgeräte
Lesen	36	25	Computerspiele
Puppen	29	24	Schwimmen
Hörbücher	26	23	Spielkästen
Schwimmen	26	23	Spielekonsolen

a) Was sind die Lieblingsbeschäftigungen von Jungen und Mädchen? Was machen beide gerne?
b) Womit beschäftigen sich Jungen gerne, Mädchen dagegen nicht?
c) Was nennen Mädchen seltener als Lesen?

→ Die Lösungen findest du auf Seite 217.