

Standpunkt

Online-Link
zum Standpunkt
742861-1561

Online-Links
zu Kapitel 8
742861-0008

Wo stehe ich?

Ich kann...

- Zahlen am Zahlenstrahl ablesen,
- für Zahlen eine geeignete Darstellung am Zahlenstrahl finden,
- Zahlen der Größe nach ordnen,
- Punkte im Quadratgitter ablesen und eintragen.

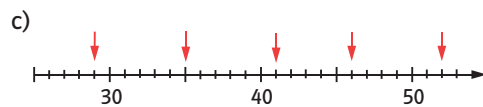
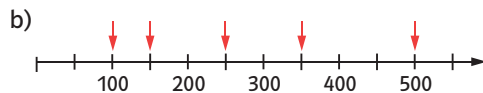
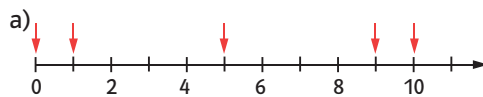
	gut	weniger gut	etwas	nicht mehr
1	<input type="checkbox"/>	<input type="checkbox"/>	<input type="checkbox"/>	<input type="checkbox"/>
2	<input type="checkbox"/>	<input type="checkbox"/>	<input type="checkbox"/>	<input type="checkbox"/>
3	<input type="checkbox"/>	<input type="checkbox"/>	<input type="checkbox"/>	<input type="checkbox"/>
4	<input type="checkbox"/>	<input type="checkbox"/>	<input type="checkbox"/>	<input type="checkbox"/>

Lerntipp!

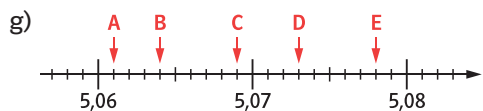
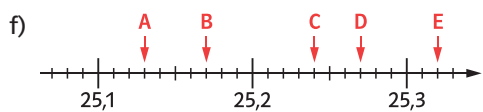
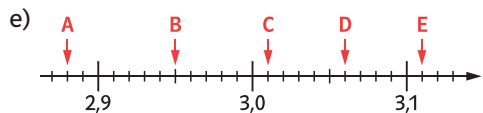
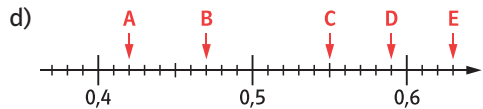
- S. 201
- S. 201
- S. 201
- S. 165; 167

Überprüfe deine Einschätzung

1 Welche Zahlen sind markiert?



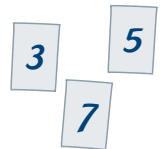
Auf welche Zahlen zeigen die Pfeile?



2 Zeichne jeweils einen geeigneten Zahlenstrahl.

- a) 5; 25 und 60 b) 120; 250; 430
c) 0,3; 1,2 und 2,2 d) 1,4; 1,47; 1,51

3 a) Bilde mit den Ziffern 3; 5 und 7 alle möglichen dreistelligen Zahlen. Jede Ziffer darf nur einmal vorkommen.



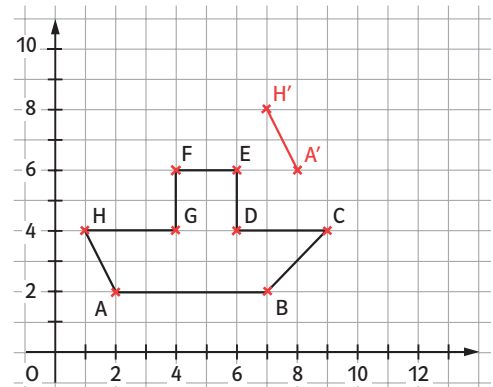
Ordne die Zahlen nach der Größe.

b) Ordne die Zahlen der Größe nach.

- (1) 14; 7; 48; 27; 8; 22; 35; 9; 19; 23
(2) 626; 1026; 262; 1206; 662; 1260
(3) 45 544; 54 455; 54 444; 54 454
(4) 24,0; 0,24; 2,4
(5) 2,978; 2,897; 2,879
(6) 6,99; 7,02; 7,01

4 a) Übertrage die Zeichnung ins Heft. Zeichne eine Kopie des Schiffes, die mit A'H' beginnt.

b) Schreibe die neuen Rechts- und Hochwerte in dein Heft: A' (|); ...



→ Die Lösungen findest du auf Seite 216.