

Aufgaben

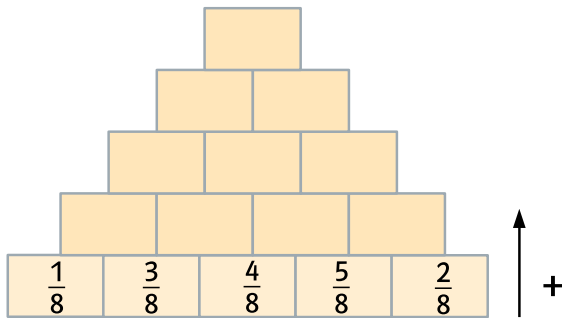
Lerntipp!

Kürze deine Ergebnisse so weit wie möglich.

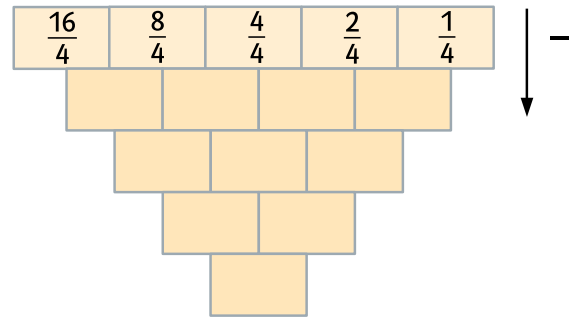
Seite 59

8 Ergänze.

a)



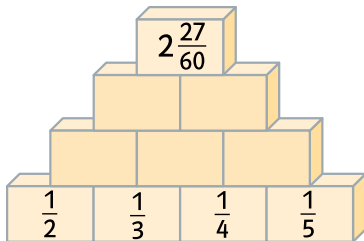
b)



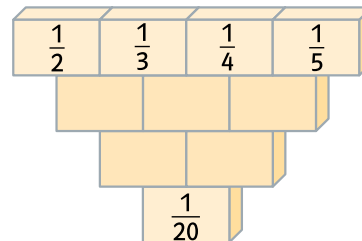
Seite 62

11 Berechne die Bruchmauern. Nach oben wird addiert und nach unten subtrahiert.

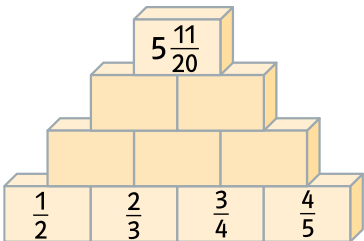
a)



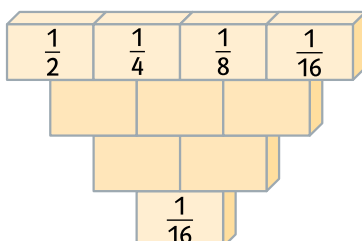
b)



c)



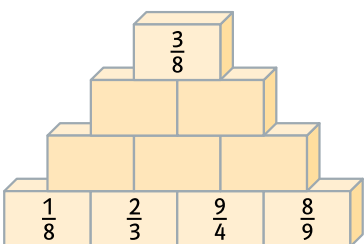
d)



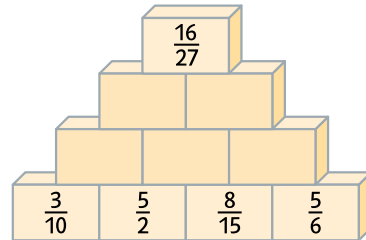
Seite 69

9 Hier wird multipliziert. Der Produktwert steht jeweils in dem Kästchen darüber.

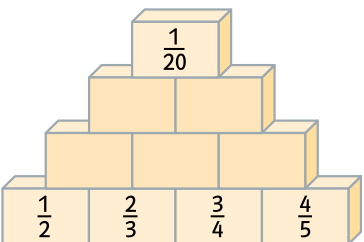
a)



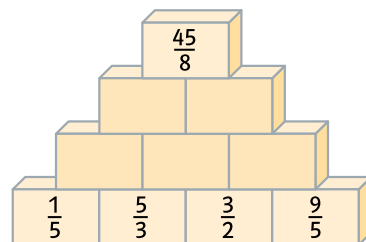
b)



c)



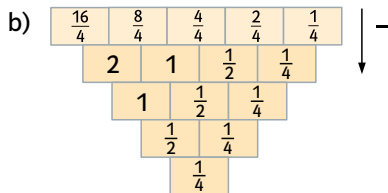
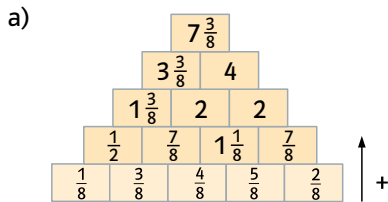
d)



Lösungen

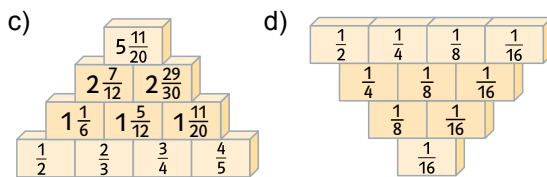
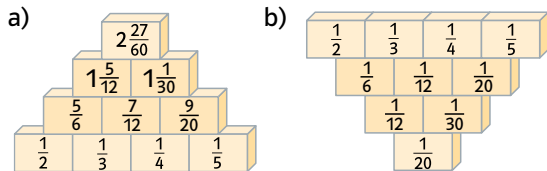
Seite 59

8 Ergänze.



Seite 60

11 Berechne die Bruchmauern. Nach oben wird addiert und nach unten subtrahiert.



Seite 69

9 Hier wird multipliziert. Der Produktwert steht jeweils in dem Kästchen darüber.

