

Standpunkt

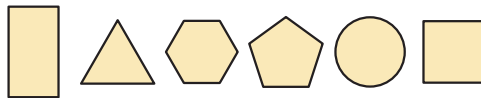
Online-Link
742851-1021

Wo stehe ich?

Ich kann...	gut	weniger gut	etwas	nicht mehr	Lerntipp!
1 Formen ebener Figuren benennen,	<input type="checkbox"/>	<input type="checkbox"/>	<input type="checkbox"/>	<input type="checkbox"/>	→ S. 104; 106; 109; 118
2 Würfel und Quader beschreiben,	<input type="checkbox"/>	<input type="checkbox"/>	<input type="checkbox"/>	<input type="checkbox"/>	→ S. 111; 112; 113; 118
3 Wegbeschreibungen verstehen,	<input type="checkbox"/>	<input type="checkbox"/>	<input type="checkbox"/>	<input type="checkbox"/>	→ S. 119
4 Würfelnetze erkennen,	<input type="checkbox"/>	<input type="checkbox"/>	<input type="checkbox"/>	<input type="checkbox"/>	→ S. 111; 112
5 Körperformen erkennen,	<input type="checkbox"/>	<input type="checkbox"/>	<input type="checkbox"/>	<input type="checkbox"/>	→ S. 111; 113; 116; 118
6 Ansichten von Körpern zeichnen,	<input type="checkbox"/>	<input type="checkbox"/>	<input type="checkbox"/>	<input type="checkbox"/>	→ S. 108; 109; 118
7 Würfel in einem Würfelgebäude zählen,	<input type="checkbox"/>	<input type="checkbox"/>	<input type="checkbox"/>	<input type="checkbox"/>	→ S. 115
8 Würfelgebäuden Baupläne zuordnen.	<input type="checkbox"/>	<input type="checkbox"/>	<input type="checkbox"/>	<input type="checkbox"/>	→ S. 117

Überprüfe deine Einschätzung.

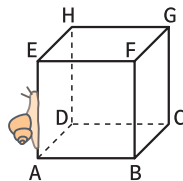
1 Benenne die Formen folgender Figuren.



2 Notiere die Ergebnisse in einer Tabelle.

	Würfel	Quader
Ecken	<input type="checkbox"/>	<input type="checkbox"/>
Kanten	<input type="checkbox"/>	<input type="checkbox"/>
Flächen	<input type="checkbox"/>	<input type="checkbox"/>
Flächenformen	<input type="checkbox"/>	<input type="checkbox"/>


3 Die Schnecke kriecht nach oben, nach hinten, nach rechts, nach unten, nach links. Wo kommt sie an?



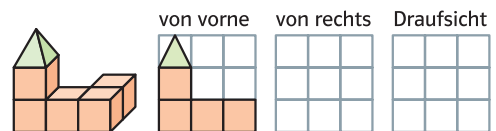
4 Welche der folgenden Figuren stellt ein Würfelnetz dar?



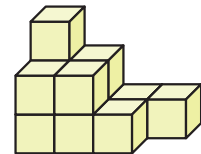
5 Ordnet den Körpern ihre Namen zu:



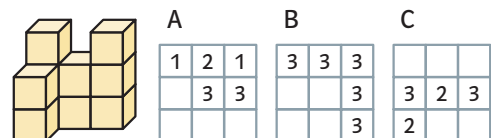
6 Zeichne verschiedene Ansichten des Gebäudes.



7 Aus wie vielen Würfeln besteht das Würfelgebäude?



8 Welcher Bauplan gehört zu diesem Würfelgebäude?



→ Die Lösungen findest du auf Seite 198.