

Standpunkt

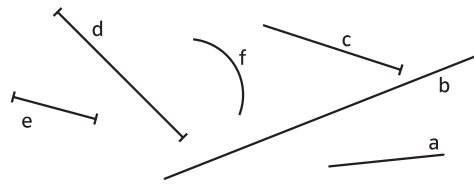
Online-Link
742851-0781

Wo stehe ich?

Ich kann ...	gut	weniger gut	etwas	nicht mehr	
1 Strecken und Geraden unterscheiden,	<input type="checkbox"/>	<input type="checkbox"/>	<input type="checkbox"/>	<input type="checkbox"/>	Lerntipp! → S.80; 97
2 senkrechte Linien erkennen,	<input type="checkbox"/>	<input type="checkbox"/>	<input type="checkbox"/>	<input type="checkbox"/>	→ S.78; 83; 97
3 senkrechte Linien zeichnen,	<input type="checkbox"/>	<input type="checkbox"/>	<input type="checkbox"/>	<input type="checkbox"/>	→ S.78; 83; 97
4 parallele Linien erkennen,	<input type="checkbox"/>	<input type="checkbox"/>	<input type="checkbox"/>	<input type="checkbox"/>	→ S.85; 97
5 parallele Linien zeichnen,	<input type="checkbox"/>	<input type="checkbox"/>	<input type="checkbox"/>	<input type="checkbox"/>	→ S.85; 97
6 Symmetrieachsen einzeichnen,	<input type="checkbox"/>	<input type="checkbox"/>	<input type="checkbox"/>	<input type="checkbox"/>	→ S.94; 97
7 Figuren an einer Achse spiegeln.	<input type="checkbox"/>	<input type="checkbox"/>	<input type="checkbox"/>	<input type="checkbox"/>	→ S.94; 97

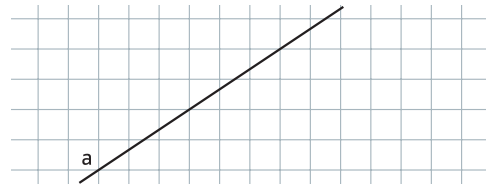
Überprüfe deine Einschätzung

- 1** Betrachte die folgenden Linien genau. Notiere
a) alle Strecken, b) alle Geraden
in deinem Heft.



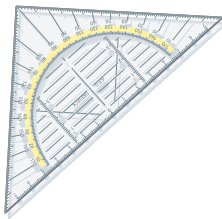
- 4** Notiere alle Geraden aus Aufgabe 2, die zueinander parallel verlaufen.

- 5** Übertrage die Zeichnung ins Heft und zeichne drei zu a parallele Geraden.

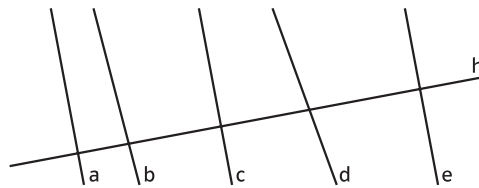


Lerntipp!

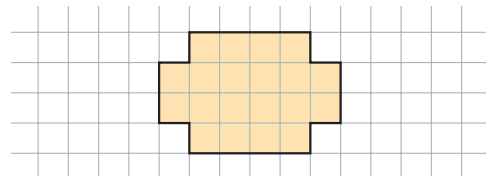
Nimm dein Geodreieck zur Hilfe.



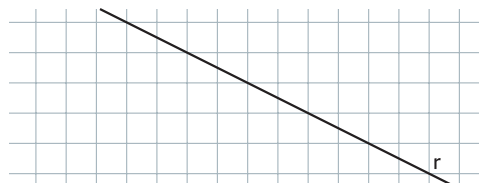
- 2** Notiere alle Geraden, die zur Geraden h senkrecht verlaufen.



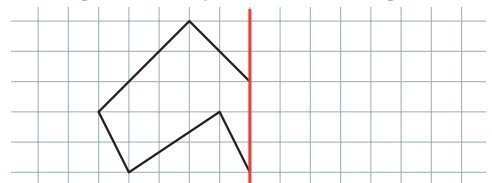
- 6** Übertrage ins Heft und zeichne alle Symmetrieachsen ein.



- 3** Zeichne drei Geraden in dein Heft, die senkrecht zur Geraden r verlaufen.



- 7** Ergänze zur symmetrischen Figur.



→ Die Lösungen findest du auf Seite 196.