

Standpunkt

Online-Link
742831-1121

Wo stehe ich?

Ich kann...

- 1 Formen ebener Figuren benennen,
- 2 Würfel und Quader beschreiben,
- 3 Wegbeschreibungen verstehen,
- 4 Würfelnetze erkennen,
- 5 Körperformen erkennen,
- 6 Ansichten von Körpern zeichnen,
- 7 Würfel in einem Würfelgebäude zählen,
- 8 Würfelgebäuden Baupläne zuordnen.

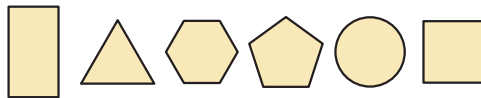
	gut	weniger gut	etwas	nicht mehr
1 Formen ebener Figuren benennen,	<input type="checkbox"/>	<input type="checkbox"/>	<input type="checkbox"/>	<input type="checkbox"/>
2 Würfel und Quader beschreiben,	<input type="checkbox"/>	<input type="checkbox"/>	<input type="checkbox"/>	<input type="checkbox"/>
3 Wegbeschreibungen verstehen,	<input type="checkbox"/>	<input type="checkbox"/>	<input type="checkbox"/>	<input type="checkbox"/>
4 Würfelnetze erkennen,	<input type="checkbox"/>	<input type="checkbox"/>	<input type="checkbox"/>	<input type="checkbox"/>
5 Körperformen erkennen,	<input type="checkbox"/>	<input type="checkbox"/>	<input type="checkbox"/>	<input type="checkbox"/>
6 Ansichten von Körpern zeichnen,	<input type="checkbox"/>	<input type="checkbox"/>	<input type="checkbox"/>	<input type="checkbox"/>
7 Würfel in einem Würfelgebäude zählen,	<input type="checkbox"/>	<input type="checkbox"/>	<input type="checkbox"/>	<input type="checkbox"/>
8 Würfelgebäuden Baupläne zuordnen.	<input type="checkbox"/>	<input type="checkbox"/>	<input type="checkbox"/>	<input type="checkbox"/>

Lerntipp!

- S. 114; 116; 119; 128
- S. 121; 122; 123; 128
- S. 129
- S. 121; 122
- S. 121; 123; 126; 128
- S. 118; 119; 128
- S. 125
- S. 127

Überprüfe deine Einschätzung.

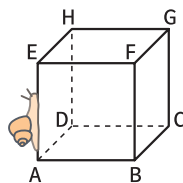
1 Benenne die Formen folgender Figuren.



2 Notiere die Ergebnisse in einer Tabelle.

	Würfel	Quader
Ecken	<input type="checkbox"/>	<input type="checkbox"/>
Kanten	<input type="checkbox"/>	<input type="checkbox"/>
Flächen	<input type="checkbox"/>	<input type="checkbox"/>
Flächenformen	<input type="checkbox"/>	<input type="checkbox"/>


3 Die Schnecke kriecht nach oben, nach hinten, nach rechts, nach unten, nach links. Wo kommt sie an?



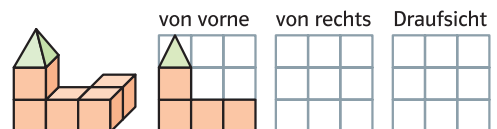
4 Welche der folgenden Figuren stellt ein Würfelnetz dar?



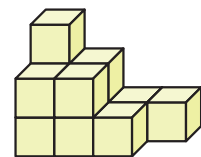
5 Ordnet den Körpern ihre Namen zu:



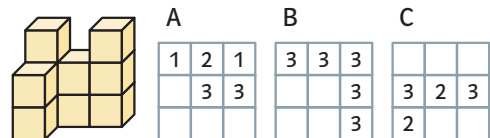
6 Zeichne verschiedene Ansichten des Gebäudes.



7 Aus wie vielen Würfeln besteht das Würfelgebäude?



8 Welcher Bauplan gehört zu diesem Würfelgebäude?



→ Die Lösungen findest du auf Seite 191.