

# Standpunkt

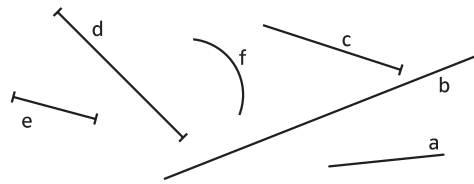
Online-Link  
742831-0861

## Wo stehe ich?

Ich kann ...	gut	weniger gut	etwas	nicht mehr	
1 Strecken und Geraden unterscheiden,	<input type="checkbox"/>	<input type="checkbox"/>	<input type="checkbox"/>	<input type="checkbox"/>	<b>Lerntipp!</b> → S.82; 107
2 senkrechte Linien erkennen,	<input type="checkbox"/>	<input type="checkbox"/>	<input type="checkbox"/>	<input type="checkbox"/>	→ S.86; 91; 107
3 senkrechte Linien zeichnen,	<input type="checkbox"/>	<input type="checkbox"/>	<input type="checkbox"/>	<input type="checkbox"/>	→ S.86; 91; 107
4 parallele Linien erkennen,	<input type="checkbox"/>	<input type="checkbox"/>	<input type="checkbox"/>	<input type="checkbox"/>	→ S.93; 107
5 parallele Linien zeichnen,	<input type="checkbox"/>	<input type="checkbox"/>	<input type="checkbox"/>	<input type="checkbox"/>	→ S.93; 107
6 Symmetrieachsen einzeichnen,	<input type="checkbox"/>	<input type="checkbox"/>	<input type="checkbox"/>	<input type="checkbox"/>	→ S.102; 105; 107
7 Figuren an einer Achse spiegeln.	<input type="checkbox"/>	<input type="checkbox"/>	<input type="checkbox"/>	<input type="checkbox"/>	→ S.102; 105; 107

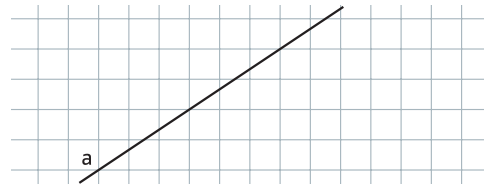
### Überprüfe deine Einschätzung

- 1 Betrachte die folgenden Linien genau. Notiere  
a) alle Strecken, b) alle Geraden  
in deinem Heft.



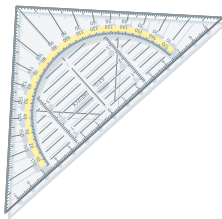
- 4 Notiere alle Geraden aus Aufgabe 2, die zueinander parallel verlaufen.

- 5 Übertrage die Zeichnung ins Heft und zeichne drei zu a parallele Geraden.

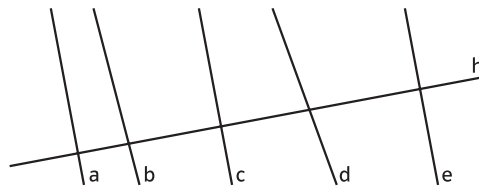


**Lerntipp!**

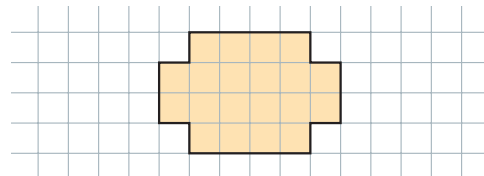
Nimm dein Geodreieck zur Hilfe.



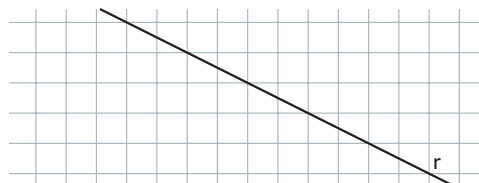
- 2 Notiere alle Geraden, die zur Geraden h senkrecht verlaufen.



- 6 Übertrage ins Heft und zeichne alle Symmetrieachsen ein.



- 3 Zeichne drei Geraden in dein Heft, die senkrecht zur Geraden r verlaufen.



- 7 Ergänze zur symmetrischen Figur.



→ Die Lösungen findest du auf Seite 188.