

Standpunkt

Teste dich
gv7586

Wo stehe ich?

Ich kann ...

	gut	weniger gut	etwas	nicht mehr	Lerntipp!
1 natürliche Zahlen addieren.	<input type="checkbox"/>	<input type="checkbox"/>	<input type="checkbox"/>	<input type="checkbox"/>	→ Seite 192
2 natürliche Zahlen subtrahieren.	<input type="checkbox"/>	<input type="checkbox"/>	<input type="checkbox"/>	<input type="checkbox"/>	→ Seite 192
3 natürliche Zahlen am Zahlenstrahl ablesen.	<input type="checkbox"/>	<input type="checkbox"/>	<input type="checkbox"/>	<input type="checkbox"/>	→ Seite 199
4 natürliche Zahlen im Zahlenstrahl eintragen.	<input type="checkbox"/>	<input type="checkbox"/>	<input type="checkbox"/>	<input type="checkbox"/>	→ Seite 199
5 natürliche Zahlen miteinander vergleichen.	<input type="checkbox"/>	<input type="checkbox"/>	<input type="checkbox"/>	<input type="checkbox"/>	→ Seite 199
6 natürliche Zahlen der Größe nach ordnen.	<input type="checkbox"/>	<input type="checkbox"/>	<input type="checkbox"/>	<input type="checkbox"/>	→ Seite 199

Überprüfe deine Einschätzung.

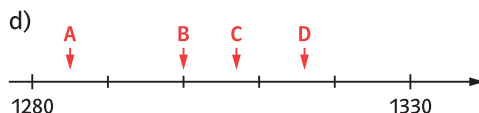
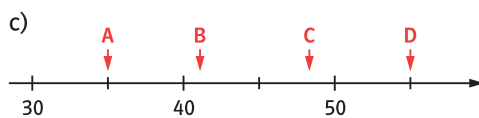
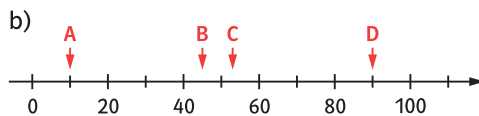
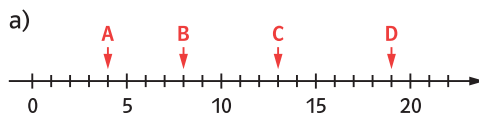
1 Addiere.

- a) $43 + 24$ b) $74 + 37$
 c) $29 + 58$ d) $102 + 29 + 40$
 e) $145 + 75$ f) $289 + 174 + 68$
 g) $1508 + 209$ h) $5098 + 4972$


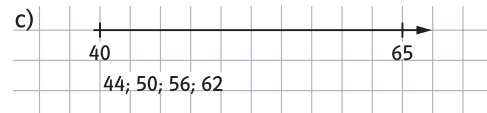
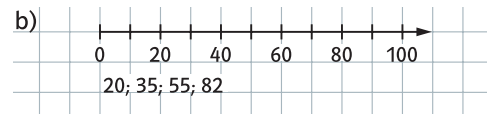
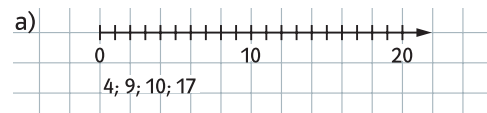
2 Subtrahiere.

- a) $76 - 32$ b) $115 - 64$
 c) $81 - 48$ d) $248 - 154$
 e) $90 - 77$ f) $357 - 105 - 247$
 g) $6100 - 859$ h) $7009 - 6832$

3 Notiere die markierten Zahlen.



4 Zeichne den Zahlenstrahl in dein Heft. Markiere darauf die angegebenen Zahlen.



5 Setze das Zeichen < oder > richtig ein.

- a) 45 54 b) 102 99
 22 2 199 200
 0 10 1000 100

6 Ordne die Zahlen nach der Größe. Beginne mit der kleinsten Zahl.

- a) 17; 0; 88; 102; 91; 19; 5
 b) 40; 10; 3; 71; 9; 17; 3
 c) 12; 31; 21; 20; 25; 11; 1
 d) 100; 1000; 101; 999; 9; 99

→ Die Lösungen findest du auf Seite 213.