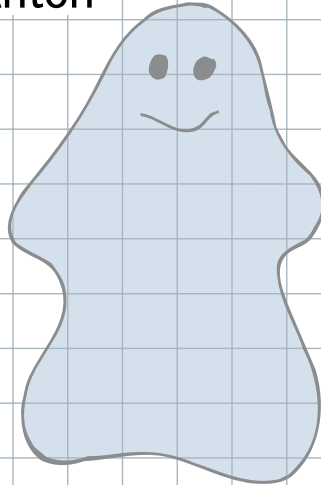


Aufgabe 8

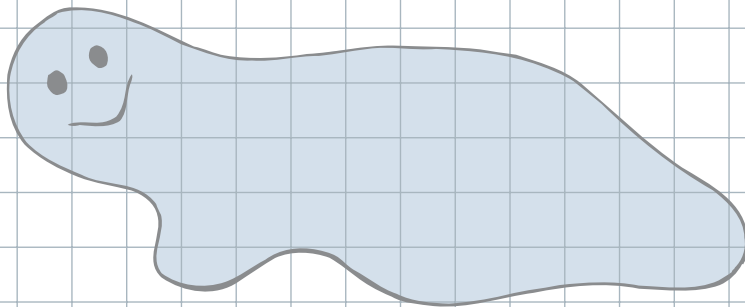
Nicht immer sind Figuren geradlinig begrenzt. Mithilfe des Karogitters kannst du trotzdem die Größe solcher Figuren miteinander vergleichen.

- Sortiere die Gespenster Anton, Berta, Carla und Dieter der Größe nach. Schätze erst und zähle dann aus. Beschreibe, wie du vorgehst.
- Welches Gespenst ist größer: Erwin oder Erna? Erkläre.


Anton




Berta



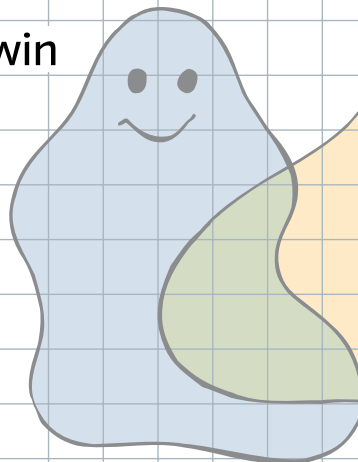
Carla



Dieter



Erwin



Erna

