

Standpunkt


Teste dich
s6sz76

Wo stehe ich?


Ich kann ...	gut	weniger gut	etwas	nicht mehr	Lerntipp!
1 eine Schokolade gerecht aufteilen.	<input type="checkbox"/>	<input type="checkbox"/>	<input type="checkbox"/>	<input type="checkbox"/>	→ Seite 194
2 Äpfel gerecht aufteilen.	<input type="checkbox"/>	<input type="checkbox"/>	<input type="checkbox"/>	<input type="checkbox"/>	→ Seite 194
3 Bruchteile im Alltag erkennen.	<input type="checkbox"/>	<input type="checkbox"/>	<input type="checkbox"/>	<input type="checkbox"/>	→ Seite 194
4 mit der Stellenwerttafel arbeiten.	<input type="checkbox"/>	<input type="checkbox"/>	<input type="checkbox"/>	<input type="checkbox"/>	→ Seite 16
5 Längen in der nächstkleineren Einheit angeben.	<input type="checkbox"/>	<input type="checkbox"/>	<input type="checkbox"/>	<input type="checkbox"/>	→ Seite 194
6 Gewichte in der nächstkleineren Einheit angeben.	<input type="checkbox"/>	<input type="checkbox"/>	<input type="checkbox"/>	<input type="checkbox"/>	→ Seite 194
7 Zeiten in der nächstkleineren Einheit angeben.	<input type="checkbox"/>	<input type="checkbox"/>	<input type="checkbox"/>	<input type="checkbox"/>	→ Seite 194

Überprüfe deine Einschätzung.

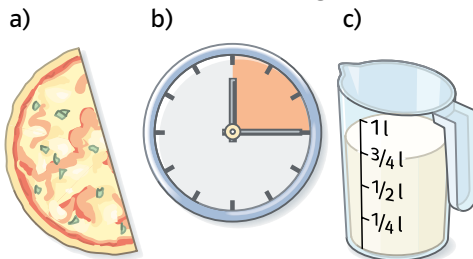
1 Kannst du die Tafel gerecht auf drei Personen aufteilen?



2 Teile die Äpfel auf vier Personen gerecht auf.



3 Welche Brüche sind dargestellt?



4 Trage die Zahlen in eine Stellenwerttafel ein.

ZT	T	H	Z	E
<input type="checkbox"/>	<input type="checkbox"/>	<input type="checkbox"/>	<input type="checkbox"/>	<input type="checkbox"/>

- a) 32 b) 245 c) 1070
d) 3008 e) 12 709 f) 80 070

5 Wandle in die nächstkleinere Längeneinheit um.

- a) 5 km b) 3 m c) 4 dm
d) 8 cm e) 14 km f) 120 m

6 Wandle in die nächstkleinere Gewichtseinheit um.

- a) 8 kg b) 20 g c) 7 t
d) 24 kg e) 128 g f) 34 t

7 Wie viele Minuten sind

- a) eine halbe Stunde?
b) eine Viertelstunde?
c) eine Dreiviertelstunde?
d) eine Zehntelstunde?



→ Die Lösungen findest du auf Seite 209.