

## Standpunkt

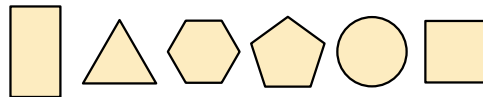
Teste dich  
y79ww2

### Wo stehe ich?

Ich kann ...	gut	weniger gut	etwas	nicht mehr	
1 Formen ebener Figuren benennen.	<input type="checkbox"/>	<input type="checkbox"/>	<input type="checkbox"/>	<input type="checkbox"/>	<b>Lerntipp!</b> → Seite 191 → Seite 192 → Seite 192 → Seite 192 → Seite 192 → Seite 192
2 Würfel und Quader beschreiben.	<input type="checkbox"/>	<input type="checkbox"/>	<input type="checkbox"/>	<input type="checkbox"/>	
3 Wegbeschreibungen verstehen.	<input type="checkbox"/>	<input type="checkbox"/>	<input type="checkbox"/>	<input type="checkbox"/>	
4 Körperformen erkennen.	<input type="checkbox"/>	<input type="checkbox"/>	<input type="checkbox"/>	<input type="checkbox"/>	
5 Würfel in einem Würfelgebäude zählen.	<input type="checkbox"/>	<input type="checkbox"/>	<input type="checkbox"/>	<input type="checkbox"/>	
6 Würfelgebäuden Baupläne zuordnen.	<input type="checkbox"/>	<input type="checkbox"/>	<input type="checkbox"/>	<input type="checkbox"/>	

### Überprüfe deine Einschätzung.

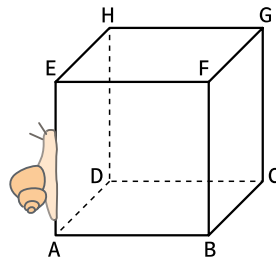
1 Gib die Namen folgender Figuren an.




2 Körper lassen sich durch Merkmale beschreiben. Notiere die Ergebnisse in einer Tabelle.

	Würfel	Quader
Anzahl Ecken	<input type="checkbox"/>	<input type="checkbox"/>
Kanten	<input type="checkbox"/>	<input type="checkbox"/>
Flächen	<input type="checkbox"/>	<input type="checkbox"/>
Flächenformen	<input type="checkbox"/>	<input type="checkbox"/>

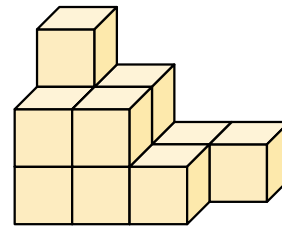
3 Die Schnecke kriecht nach oben, nach hinten, nach rechts, nach unten, nach links. Wo kommt sie an?



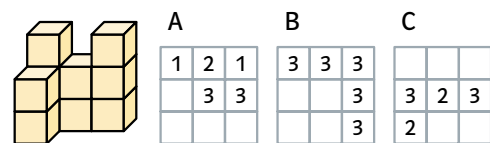
4 Welche Körper erkennst du?



5 Aus wie vielen Würfeln besteht das Würfelgebäude?



6 Welcher Bauplan gehört zu diesem Würfelgebäude?



→ Die Lösungen findest du auf Seite 204.