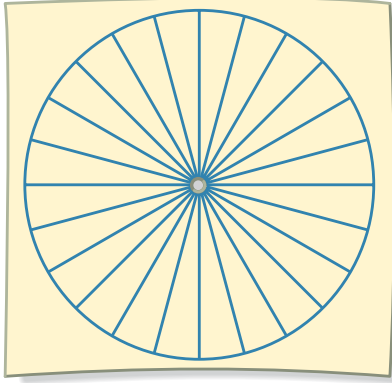


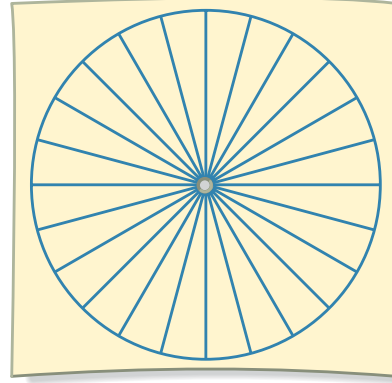
## Aufgabe 13

Wie viele Felder müssen auf dem Glücksrad gefärbt werden, wenn das Ergebnis „Rot“ mit der angegebenen Wahrscheinlichkeit eintreffen soll?  
Färbe die Glücksräder passend ein.

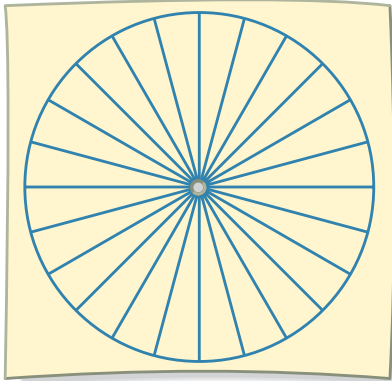
a)  $\frac{1}{2}$



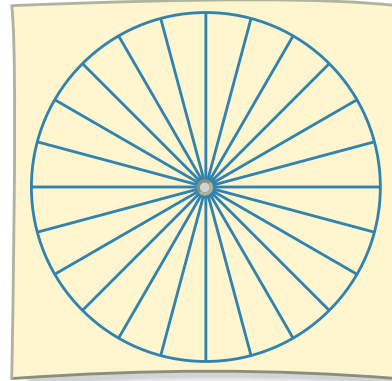
b)  $\frac{1}{4}$



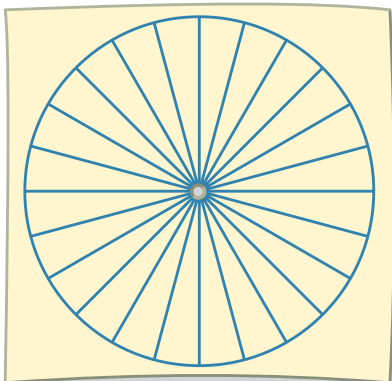
c)  $\frac{2}{3}$



d)  $\frac{3}{8}$



e)  $\frac{5}{6}$



f)  $\frac{7}{12}$

