

Standpunkt

Online-Link
zum Standpunkt
742221-1401

Wo stehe ich?

Ich kann ...

	gut	weniger gut	etwas	nicht mehr	
1 Additions- und Subtraktionsaufgaben mit Platzhaltern lösen.	<input type="checkbox"/>	<input type="checkbox"/>	<input type="checkbox"/>	<input type="checkbox"/>	→ Seite 173
2 Sachaufgaben lösen.	<input type="checkbox"/>	<input type="checkbox"/>	<input type="checkbox"/>	<input type="checkbox"/>	→ Seite 166
3 Diagramme lesen und die Daten in eine Tabelle übertragen.	<input type="checkbox"/>	<input type="checkbox"/>	<input type="checkbox"/>	<input type="checkbox"/>	→ Seite 172
4 Daten in ein Diagramm übertragen.	<input type="checkbox"/>	<input type="checkbox"/>	<input type="checkbox"/>	<input type="checkbox"/>	→ Seite 172
5 Rechenregeln anwenden.	<input type="checkbox"/>	<input type="checkbox"/>	<input type="checkbox"/>	<input type="checkbox"/>	→ Seite 173
8 Umfang und Flächeninhalt von Flächen berechnen.	<input type="checkbox"/>	<input type="checkbox"/>	<input type="checkbox"/>	<input type="checkbox"/>	→ Seite 171

Lerntipp!

Überprüfe deine Einschätzung.

1 Bestimme den Platzhalter.

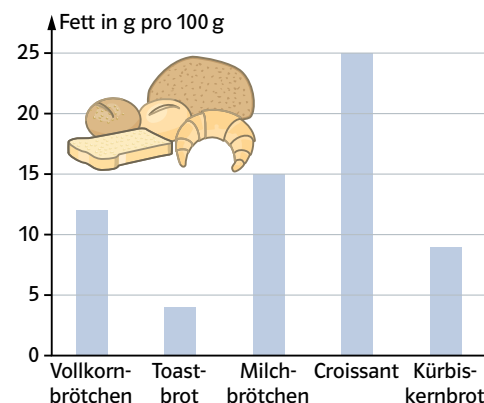
- a) $10 + \blacksquare = 23$ b) $\blacksquare + 35 = 90$
c) $40 - \blacksquare = 25$ d) $\blacksquare - 80 = 20$

2 a) Ein 2-Euro-Stück wiegt etwa 10 g. Wie schwer sind 100 Euro in 2-Euro-Stücken?

b) Ein Smart hat ein Leergewicht von 805 kg und ein zugelassenes Gesamtgewicht von 980 kg.

Wie viel Zuladung hat er?

3 Lies die Fettgehalte aus dem Säulendiagramm ab. Übertrage die Werte in eine Tabelle.



4 Übertrage die Anzahl der verkauften Waren aus der Strichliste in ein Balkendiagramm.

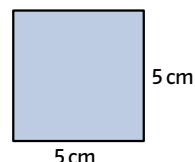
Milch	Kakao	Käsebröt	Wurstbrot	Müsli

5 Berechne.

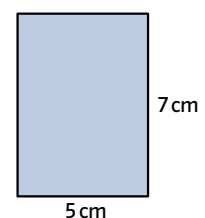
- a) $15 + (23 - 8)$ b) $15 + 23 - 8$
c) $3 \cdot (12 + 3)$ d) $3 \cdot 12 + 3$
e) $(3 \cdot 12) + 3$ f) $40 : 8 + 2$
g) $40 : (8 + 2)$ h) $4 \cdot 8 - 2 \cdot 4$
i) $4 \cdot (8 - 2) \cdot 4$ j) $(4 \cdot 8 - 2) \cdot 4$

6 Berechne den Umfang und den Flächeninhalt der Figur.

a) Quadrat



b) Rechteck



→ Die Lösungen findest du auf Seite 182.