

Standpunkt

Online-Link
zum Standpunkt
742141-1241

Wo stehe ich?

Ich kann ...

1 mit Geld rechnen,

2 Zeiteinheiten umwandeln,

3 Zeitspannen berechnen,

4 Gewichtseinheiten umwandeln,

5 Gegenständen passende Gewichte zuordnen,

6 Längenmaße der Größe nach ordnen,

7 mit Längenmaßen rechnen,

8 Textaufgaben lösen.

	gut	weniger gut	etwas	nicht mehr
1 mit Geld rechnen,	<input type="checkbox"/>	<input type="checkbox"/>	<input type="checkbox"/>	<input type="checkbox"/>
2 Zeiteinheiten umwandeln,	<input type="checkbox"/>	<input type="checkbox"/>	<input type="checkbox"/>	<input type="checkbox"/>
3 Zeitspannen berechnen,	<input type="checkbox"/>	<input type="checkbox"/>	<input type="checkbox"/>	<input type="checkbox"/>
4 Gewichtseinheiten umwandeln,	<input type="checkbox"/>	<input type="checkbox"/>	<input type="checkbox"/>	<input type="checkbox"/>
5 Gegenständen passende Gewichte zuordnen,	<input type="checkbox"/>	<input type="checkbox"/>	<input type="checkbox"/>	<input type="checkbox"/>
6 Längenmaße der Größe nach ordnen,	<input type="checkbox"/>	<input type="checkbox"/>	<input type="checkbox"/>	<input type="checkbox"/>
7 mit Längenmaßen rechnen,	<input type="checkbox"/>	<input type="checkbox"/>	<input type="checkbox"/>	<input type="checkbox"/>
8 Textaufgaben lösen.	<input type="checkbox"/>	<input type="checkbox"/>	<input type="checkbox"/>	<input type="checkbox"/>

Lerntipp!

→ Seite 178; 179

→ Seite 178; 179

→ Seite 178; 179

→ Seite 178

→ Seite 178


→ Seite 172

→ Seite 178

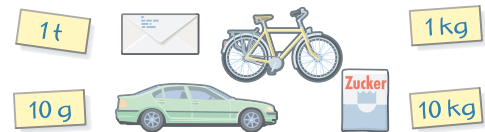
→ Seite 179

Überprüfe deine Einschätzung

1 Wie viel zahlt Laura?



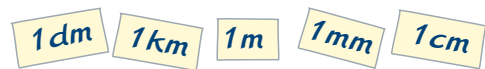
5 Ordne den Gegenständen die passenden Gewichte zu.



2 Wandle in die angegebene Einheit um.

- a) 1 h = min b) 120 min = h
 c) 1 d = h d) 48 h = d
 e) $\frac{1}{2}$ h = min f) 2 min = s

6 Ordne die Längenmaße der Größe nach.



3 Wie lange fährt der Bus?

	Linie	Abfahrt	Ankunft
a)	Realschule	07:12 Uhr	07:40 Uhr
b)	Zentrum	07:25 Uhr	08:05 Uhr
c)	Südstadt	08:35 Uhr	09:45 Uhr

7 Berechne.

- a) 64 cm + 36 cm b) 5 km + 3000 m
 c) 1 m - 7 cm

8 Simon lädt seine Freunde zum 12. Geburtstag ins Kino ein. Drei Freunde sind 12 Jahre oder älter. Fünf sind jünger als 12 Jahre. Simon bezahlt mit einem 50-€-Schein. Wie viel Geld hat er noch übrig?

Preise Kino Flimmerkiste

Kinder (unter 12 Jahren)	4,00 €
Jugendliche (ab 12 Jahren)	5,00 €

Lerntipp!

min = Minute

h = Stunde

d = Tag

s = Sekunde

Lerntipp!

07:40 Uhr

↓ +20 min

08:00 Uhr

Lerntipp!

t = Tonne

l = Liter

ml = Milliliter

→ Die Lösungen findest du auf Seite 188.