

Standpunkt

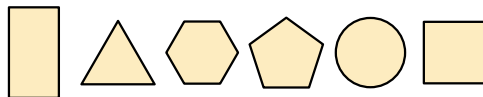
Online-Link
zum Standpunkt
742141-1021

Wo stehe ich?

Ich kann ...	gut	weniger gut	etwas	nicht mehr	Lerntipp!
1 Formen ebener Figuren benennen,	<input type="checkbox"/>	<input type="checkbox"/>	<input type="checkbox"/>	<input type="checkbox"/>	→ Seite 176
2 Würfel und Quader beschreiben,	<input type="checkbox"/>	<input type="checkbox"/>	<input type="checkbox"/>	<input type="checkbox"/>	→ Seite 177
3 Wegbeschreibungen verstehen,	<input type="checkbox"/>	<input type="checkbox"/>	<input type="checkbox"/>	<input type="checkbox"/>	→ Seite 179
4 Körperformen erkennen,	<input type="checkbox"/>	<input type="checkbox"/>	<input type="checkbox"/>	<input type="checkbox"/>	→ Seite 177
5 Würfel in einem Würfelgebäude zählen,	<input type="checkbox"/>	<input type="checkbox"/>	<input type="checkbox"/>	<input type="checkbox"/>	→ Seite 178
6 Würfelgebäuden Baupläne zuordnen.	<input type="checkbox"/>	<input type="checkbox"/>	<input type="checkbox"/>	<input type="checkbox"/>	→ Seite 178

Überprüfe deine Einschätzung

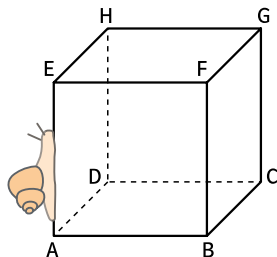
1 Benenne die Formen folgender Figuren.




2 Notiere die Ergebnisse in einer Tabelle.

	Würfel	Quader
Ecken	<input type="checkbox"/>	<input type="checkbox"/>
Kanten	<input type="checkbox"/>	<input type="checkbox"/>
Flächen	<input type="checkbox"/>	<input type="checkbox"/>
Flächenformen	<input type="checkbox"/>	<input type="checkbox"/>

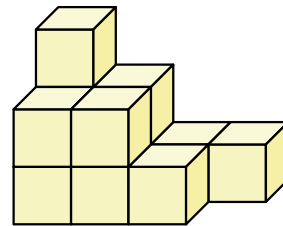
3 Die Schnecke kriecht nach oben, nach hinten, nach rechts, nach unten, nach links. Wo kommt sie an?



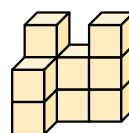
4 Ordnet den Körpern ihre Namen zu:



5 Aus wie vielen Würfeln besteht das Würfelgebäude?



6 Welcher Bauplan gehört zu diesem Würfelgebäude?



A	B	C
1 2 1	3 3 3	
3 3		3 2 3
		2

→ Die Lösungen findest du auf Seite 185.