

Standpunkt

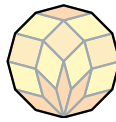
Online-Link
740361-0001

Wo stehe ich?

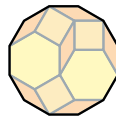
Ich kann...	gut	weniger gut	etwas	nicht mehr	Lerntipp!
1 Formen in Mustern erkennen und benennen,	<input type="checkbox"/>	<input type="checkbox"/>	<input type="checkbox"/>	<input type="checkbox"/>	→ S. 135; 200; 206
2 Körper erkennen und benennen,	<input type="checkbox"/>	<input type="checkbox"/>	<input type="checkbox"/>	<input type="checkbox"/>	→ S. 135; 206
3 zu einem gefalteten Würfelnetz das passende Würfelnetz angeben,	<input type="checkbox"/>	<input type="checkbox"/>	<input type="checkbox"/>	<input type="checkbox"/>	→ S. 126; 206
4 Quadernetze zeichnen,	<input type="checkbox"/>	<input type="checkbox"/>	<input type="checkbox"/>	<input type="checkbox"/>	→ S. 206
5 Würfelgebäude durch Umsetzen von einem Würfel erzeugen,	<input type="checkbox"/>	<input type="checkbox"/>	<input type="checkbox"/>	<input type="checkbox"/>	→ S. 206
6 Körper an ihrer Beschreibung erkennen und benennen,	<input type="checkbox"/>	<input type="checkbox"/>	<input type="checkbox"/>	<input type="checkbox"/>	→ S. 135; 206
7 das Schrägbild eines Quaders zeichnen,	<input type="checkbox"/>	<input type="checkbox"/>	<input type="checkbox"/>	<input type="checkbox"/>	→ S. 206
8 einen Körper beschreiben.	<input type="checkbox"/>	<input type="checkbox"/>	<input type="checkbox"/>	<input type="checkbox"/>	→ S. 135; 206

Überprüfe deine Einschätzung

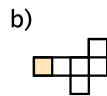
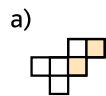
1 Aus welchen Formen ist dieses Muster zusammengesetzt?



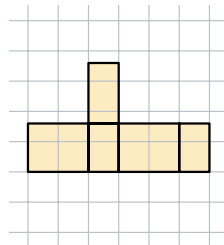
2 Nenne zwei Körper, die sich in diesem Muster verstecken.




3 Aus welchem Würfelnetz wird der Würfel gefaltet?



4 Übertrage das Netz in dein Heft und vervollständige das Quadernetz.



5 Du darfst von Karte zu Karte nur einen Klotz versetzen. Sortiere die Kärtchen.

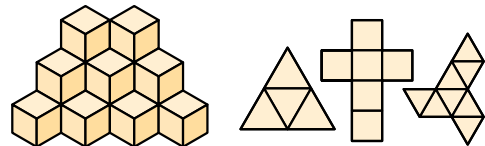


6 Welcher Körper ist beschrieben?

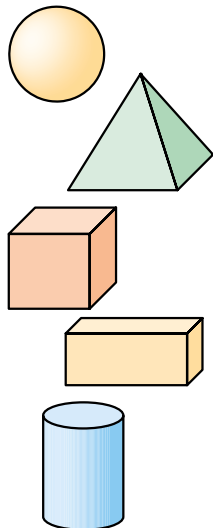
- Zueinander parallele Seiten sind gleich lang.
- Die benachbarten Kanten stehen senkrecht aufeinander.
- Die Begrenzungsflächen sind Rechtecke.

7 Zeichne das Schrägbild eines Quaders mit $a = 6\text{ cm}$, $b = 4\text{ cm}$ und $c = 5\text{ cm}$.

8 a) Beschreibe den Körper.
b) Aus welcher Art von Netzen kann man den Körper aufbauen?



Zu Aufgabe 6:



→ Die Lösungen findest du auf Seite 214.