



# Körpernetze



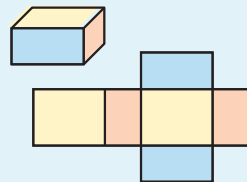
Bettina hat die Klebestellen der Schachtel gelöst und den Karton flach ausgebreitet. Auf Karopapier hat sie die Oberfläche der Schachtel ohne Klebelaschen gezeichnet. Beschreibe, wie Tina vorgegangen ist.

Wird die Oberfläche eines geometrischen Körpers aufgeschnitten und in der Ebene ausgebreitet, so erhält man ein **Netz** des Körpers.

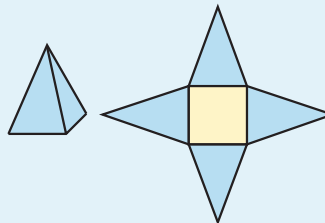


## Beispiel

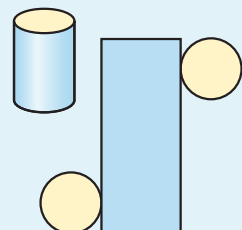
a) Quader



b) Pyramide



c) Zylinder



1 Welches Netz gehört zu welcher Seifenverpackung?

