

# Checkliste

 **Check-in**  
d456sk

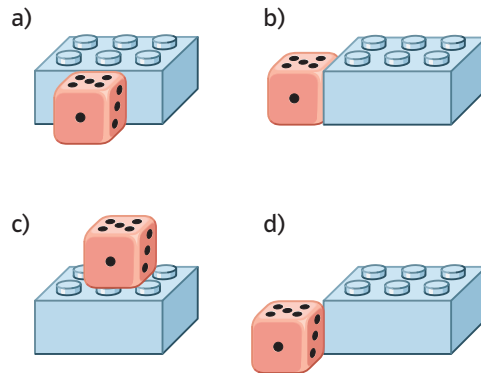
	Das kann ich.	Da bin ich fast sicher.	Da bin ich unsicher.	Das kann ich noch nicht.
<b>1</b> Ich kann die Lage von zwei Gegenständen zueinander beschreiben. → mathe live - Werkstatt, Seite 216	<input type="checkbox"/>	<input type="checkbox"/>	<input type="checkbox"/>	<input type="checkbox"/>
<b>2</b> Ich kann eine gerade Linie mit dem Lineal zeichnen. → mathe live - Werkstatt, Seite 213	<input type="checkbox"/>	<input type="checkbox"/>	<input type="checkbox"/>	<input type="checkbox"/>
<b>3</b> Ich kann Flächen benennen. → mathe live - Werkstatt, Seite 214	<input type="checkbox"/>	<input type="checkbox"/>	<input type="checkbox"/>	<input type="checkbox"/>
<b>4</b> Ich kann Flächen im Kästchengitter ins Heft übertragen. → mathe live - Werkstatt, Seite 215	<input type="checkbox"/>	<input type="checkbox"/>	<input type="checkbox"/>	<input type="checkbox"/>
	Ich helfe anderen.	Ich übe weiter.	Ich frage andere.	Ich frage eine Lehrperson.

# Aufgaben

## 1 Lage von zwei Gegenständen

Beschreibe mit den folgenden Worten wie der Würfel und der Legostein zueinander liegen:

vor    hinter    über    unter    neben    rechtwinklig



## 2 Gerade Linien zeichnen




a) Zeichne mit Lineal und Bleistift eine gerade Linie in dein Heft.  
b) Die Kinder sollten gerade Linien zeichnen. Gib ihnen Tipps fürs Zeichnen.

Lotta \_\_\_\_\_  
Henni \_\_\_\_\_  
Luis \_\_\_\_\_  
Joana \_\_\_\_\_

## 3 Flächen benennen

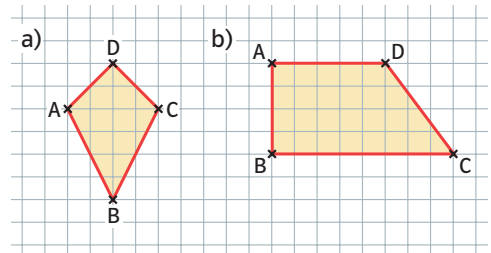
Ordne die Bilder den Begriffen zu.

Kreis    Quadrat    Dreieck    Rechteck    Drachen



## 4 Flächen im Kästchengitter

Übertrage die beiden Vierecke in dein Heft.



→ Lösungen zum Check-in, Seite 242