

Checkliste

 **Check-in**
3xh2am

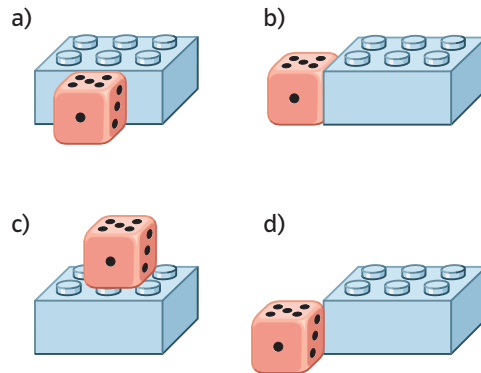
	Das kann ich.	Da bin ich fast sicher.	Da bin ich unsicher.	Das kann ich noch nicht.
1 Ich kann die Lage von zwei Gegenständen zueinander beschreiben. → mathe live - Werkstatt, Seite 216	<input type="checkbox"/>	<input type="checkbox"/>	<input type="checkbox"/>	<input type="checkbox"/>
2 Ich kann eine gerade Linie mit dem Lineal zeichnen. → mathe live - Werkstatt, Seite 213	<input type="checkbox"/>	<input type="checkbox"/>	<input type="checkbox"/>	<input type="checkbox"/>
3 Ich kann Flächen benennen. → mathe live - Werkstatt, Seite 214	<input type="checkbox"/>	<input type="checkbox"/>	<input type="checkbox"/>	<input type="checkbox"/>
4 Ich kann Flächen im Kästchengitter ins Heft übertragen. → mathe live - Werkstatt, Seite 215	<input type="checkbox"/>	<input type="checkbox"/>	<input type="checkbox"/>	<input type="checkbox"/>
	Ich helfe anderen.	Ich übe weiter.	Ich frage andere.	Ich frage eine Lehrperson.

Aufgaben

1 Lage von zwei Gegenständen

Beschreibe mit den folgenden Worten wie der Würfel und der Legostein zueinander liegen:

vor hinter über unter neben rechtwinklig



2 Gerade Linien zeichnen


a) Zeichne mit Lineal und Bleistift eine gerade Linie in dein Heft.
b) Die Kinder sollten gerade Linien zeichnen. Gib ihnen Tipps fürs Zeichnen.

Lotta _____
Henni _____
Luis _____
Joana _____

3 Flächen benennen

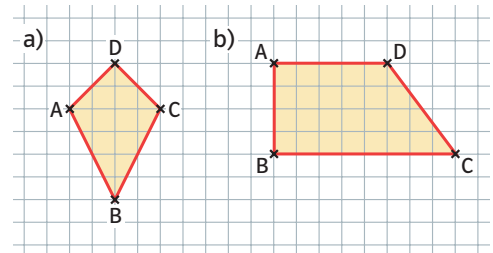
Ordne die Bilder den Begriffen zu.

Kreis Quadrat Dreieck Rechteck Drachen



4 Flächen im Kästchengitter

Übertrage die beiden Vierecke in dein Heft.



→ Lösungen zum Check-in, Seite 242