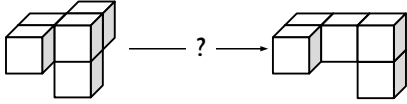


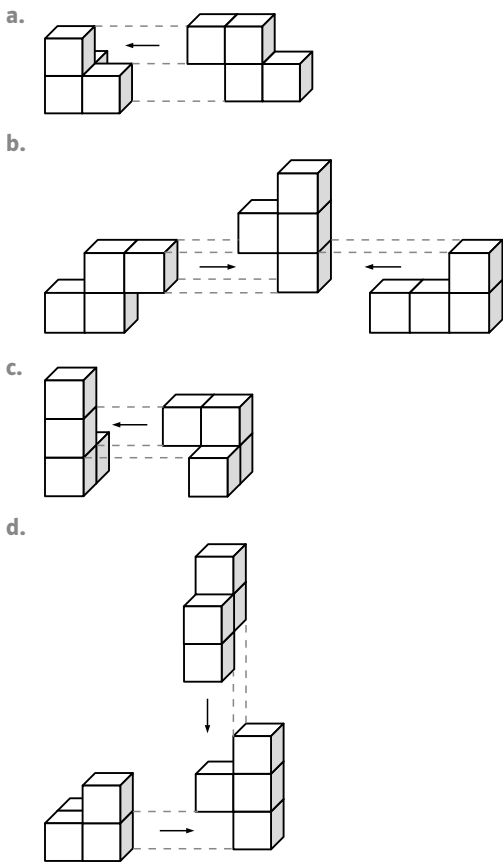
Leistungsaufgaben

1 Du siehst hier einen Würfelfünfling. Der zweite Fünfling ist aus dem ersten entstanden, indem zwei Würfel umgelegt wurden.



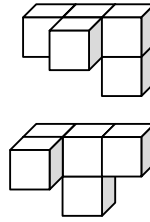
Wie kann der Fünfling nach dem Umlegen eines Würfels aussehen? Zeichne das Schrägbild eines möglichen Zwischenobjektes.

2 Die Abbildung zeigt, wie verschiedene Würfelvierlinge zusammgebaut werden. Zeichne das entstehende räumliche Objekt als Schrägbild.

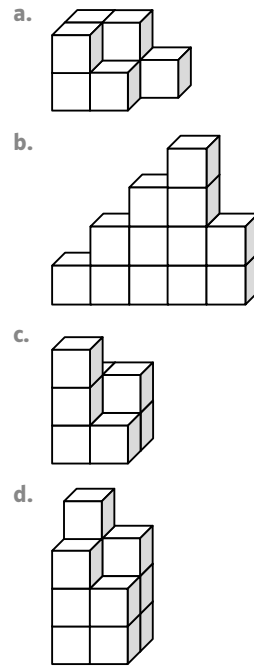


Lösungen zu den Leistungsaufgaben

1 Zwei Möglichkeiten (von mehreren) sind abgebildet.



2



Teilaufgabe	Kompetenz	Anforderungsbereich
1	K2, K4, K5	II
2a., b., c.	K2, K4, K5	II
2d.	K2, K4, K5	III