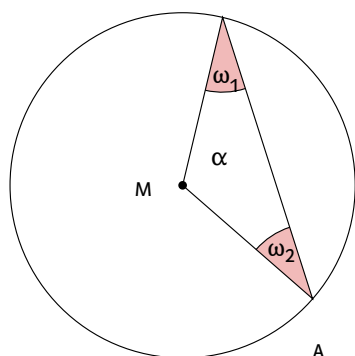
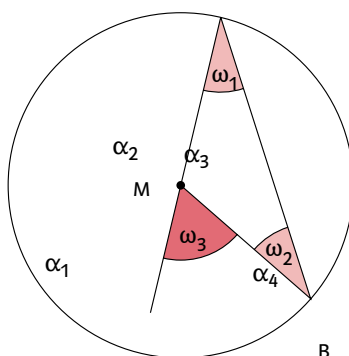


Blickwinkel

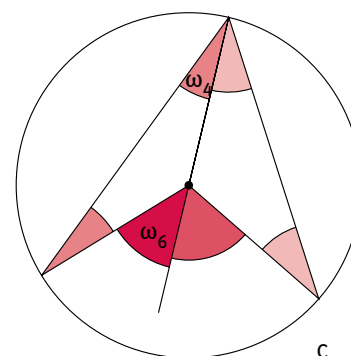
3 Hier findest du noch einmal die Figuren aus dem Schulbuch von Aufgabe 9 auf Seite 67. Anhand dieser Abbildungen kannst du den sogenannten Umfangswinkelsatz beweisen. Dieser Satz besagt: Von jedem Punkt der Kreislinie ist eine gegebene Strecke unter dem gleichen Winkel zu sehen. Dies ist in Figur F veranschaulicht.



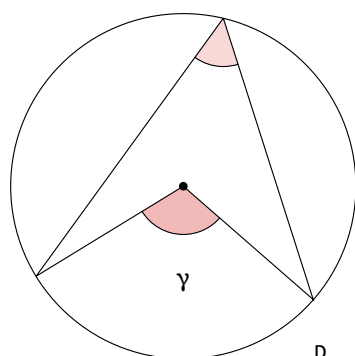
A



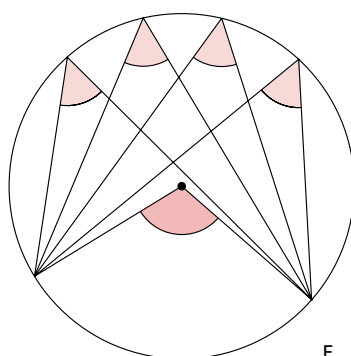
B



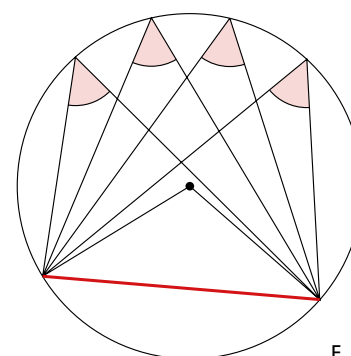
C



D



E



F