

Methoden üben: Statistiken und Diagramme


	1822	1859	1907
Land- und Forstwirtschaft	41,6	35,0	28,4
Industrie	34,8	38,5	42,2
Handel und Verkehr	9,4	11,0	12,9
Häusliche Dienste	5,0	4,3	3,3
Verwaltung, Militär, freie Berufe	4,6	5,1	5,2
Berufslose, Rentenbezieher	4,7	6,1	8,1
zusammen	100,0	100,0	100,0

D1 Zahlentabelle: Erwerbstätige nach Wirtschaftsbereichen in Deutschland 1822, 1859, 1907 (in % der Gesamtbevölkerung). Aus: G. Hohorst/J. Kocka/G. A. Ritter: Sozialgeschichtliches Arbeitsbuch. Materialien zur Statistik des Kaiserreichs 1870–1914. München: Verlag C.H. Beck 1975, S. 66 (ISBN 3-406-05406-4).


Werte die Statistik nach folgenden Arbeitsschritten aus:

- In D1 geht es um _____.
- Die Zahlenangaben umfassen einen Zeitraum von _____ bis _____.
- Das statistische Material wird dargestellt als Tabelle Diagramm
- Die Statistik enthält absolute Zahlen Prozentangaben
- Die angegebenen Daten vermitteln, _____.
- Daraus lässt sich folgende Entwicklung ablesen: _____.


Bilde die Daten aus D1 in Kreisdiagrammen ab.



1822



1859



1907