

Methoden üben: Statistiken und Diagramme


| | 1822 | 1859 | 1907 |
|-----------------------------------|--------------|--------------|--------------|
| Land- und Forstwirtschaft | 41,6 | 35,0 | 28,4 |
| Industrie | 34,8 | 38,5 | 42,2 |
| Handel und Verkehr | 9,4 | 11,0 | 12,9 |
| Häusliche Dienste | 5,0 | 4,3 | 3,3 |
| Verwaltung, Militär, freie Berufe | 4,6 | 5,1 | 5,2 |
| Berufslose, Rentenbezieher | 4,7 | 6,1 | 8,1 |
| zusammen | 100,0 | 100,0 | 100,0 |

D1 Zahlentabelle: Erwerbstätige nach Wirtschaftsbereichen in Deutschland 1822, 1859, 1907 (in % der Gesamtbevölkerung). Aus: G. Hohorst/J. Kocka/G. A. Ritter: Sozialgeschichtliches Arbeitsbuch. Materialien zur Statistik des Kaiserreichs 1870–1914. München: Verlag C.H. Beck 1975, S. 66 (ISBN 3-406-05406-4).


Werte die Statistik nach folgenden Arbeitsschritten aus:

- In D1 geht es um _____.
- Die Zahlenangaben umfassen einen Zeitraum von _____ bis _____.
- Das statistische Material wird dargestellt als Tabelle Diagramm
- Die Statistik enthält absolute Zahlen Prozentangaben
- Die angegebenen Daten vermitteln, _____.
- Daraus lässt sich folgende Entwicklung ablesen: _____.


Bilde die Daten aus D1 in Kreisdiagrammen ab.



1822



1859



1907