
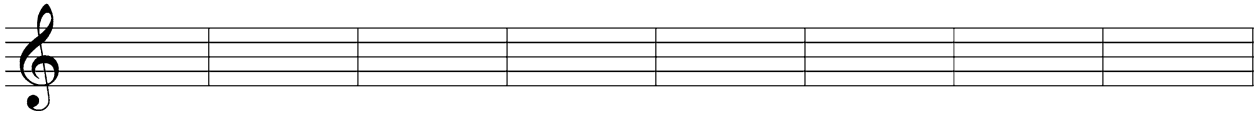



Checkup deiner Kenntnisse

Dreiklänge in der Grundstellung – Schreibe die Töne und ihre Namen auf:



Septakkorde – Schreibe die Töne und ihre Namen auf:



Dur-Dreiklang
mit großer Septe

Dur-Dreiklang
mit kleiner Septe
= Dominantseptakkord


Dur-Dreiklang
mit kleiner Terz
= verminderter Septakkord

Dreiklangsmelodik – Drunten im Unterland

Überliefert aus Schwaben



1. Schreibe die Tonleiter auf, die dem Lied zugrunde liegt:



- In welchen Takten ist die Liedmelodie von Dreiklangstönen bestimmt? Kreise diese Töne farbig ein.
- Welche Begleitakkorde passen zu den einzelnen Takten? Schreibe sie in Kurzform über die Noten.