

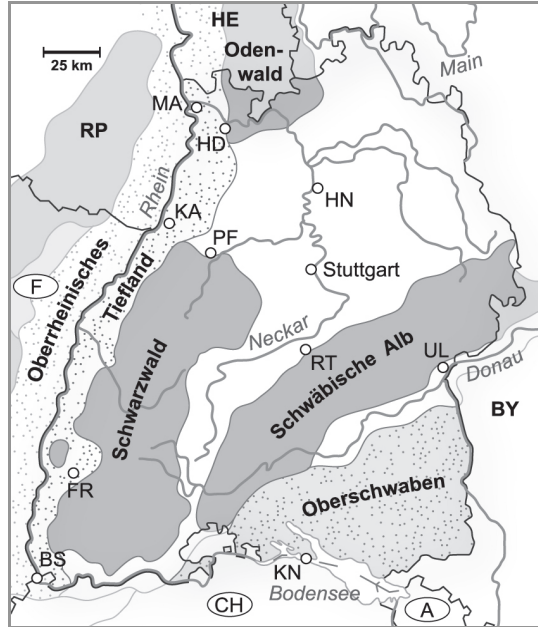
Kompetenzcheck

1. Sich orientieren (Orientierungskompetenz)

a) Ich kann die Lage Oberschwabens in Baden-Württemberg beschreiben. (S. 92/93)

1 Beschreibe die Lage Oberschwabens in Baden-Württemberg mit drei Merkmalen.

(/ 3 P.)



stimmt	3 Punkte	stimmt überwiegend	2 Punkte	stimmt teilweise	1 Punkt	stimmt nicht	0 Punkte
--------	----------	--------------------	----------	------------------	---------	--------------	----------

b) Ich kann die Lage des Bodensees anhand einer Karte mit mindestens zwei Lagemerkmalen beschreiben. (S. 108–109)

(/ 3 P.)

2 Beschreibe die Lage des Bodensees anhand der Karte mit drei Merkmalen.

2. Kennen und verstehen (Sachkompetenz)

a) Ich kann die Landschaft Oberschwabens beschreiben. (S. 106)

3 Kreuze die charakteristischen Merkmale der Landschaft Oberschwabens an.

(/ 4 P.)

Für die Landschaft Oberschwabens charakteristisch sind	<input type="checkbox"/>	die vielen kleinen Seen.	
	<input type="checkbox"/>	die ausgedehnten Getreidefelder, auf denen vor allem Mais angebaut wird.	
	<input type="checkbox"/>	die kleinen, meist waldbestandenen kuppigen Hügel.	
	<input type="checkbox"/>	die spitzen Berggipfel der mehr als 2000 Meter hohen Berge.	
	<input type="checkbox"/>	die großen Städte, die zwischen Bodensee und dem Donautal entstanden sind.	
	<input type="checkbox"/>	die vielen Kiesgruben.	
	<input type="checkbox"/>	die weitverbreiteten Einzelhöfe.	
	<input type="checkbox"/>	die ausgedehnten Fichtenwälder.	

Name:

Klasse:

Datum:

Kompetenzcheck

b) Ich kann die Entstehung der Landschaft Oberschwabens erklären. (S. 106–107)

4 Erkläre die Entstehung der Landschaft Oberschwabens.

(/ 6 P.)

c) Ich kann die Entstehung des Bodensees erklären. (S. 108–109)

5 Erkläre die Entstehung des Bodensees mithilfe der Grafik, Buch S. 107).

(/ 6 P.)

d) Ich kann die Besonderheiten der Grünlandwirtschaft erläutern. (S. 110 und 115)

6 Erläutere die Besonderheiten der Grünlandwirtschaft.

(/ 5 P.)

e) Ich kann mindestens fünf Freizeitangebote in der Region Bodensee-Oberschwaben benennen.

7 Benenne mindestens fünf Freizeitangebote in der Region Bodensee-Oberschwaben.

(/ 5 P.)

Name: _____

Klasse: _____

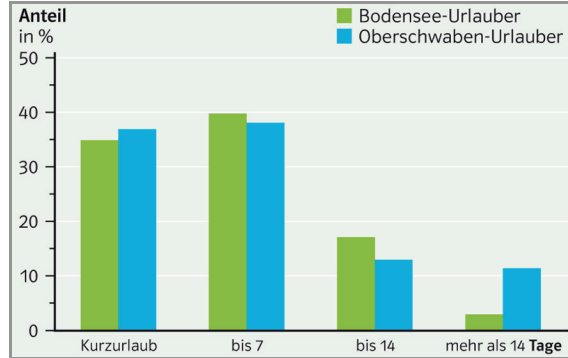
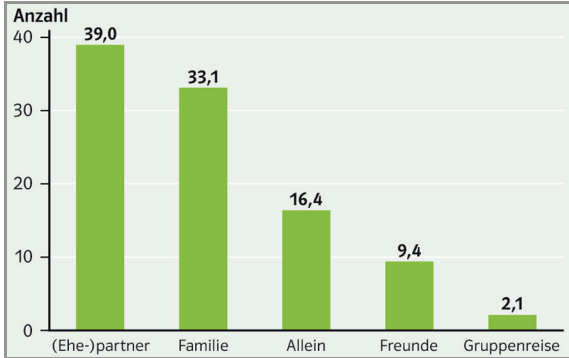
Datum: _____

Kompetenzcheck

f) Ich kann den **Tourismus in der Region Bodensee-Oberschwaben** charakterisieren. (S. 112–113)

8 Arbeite aus den beiden Grafiken charakteristische Merkmale des Tourismus in der Region Oberschwaben-Bodensee heraus.

(/ 6 P.)

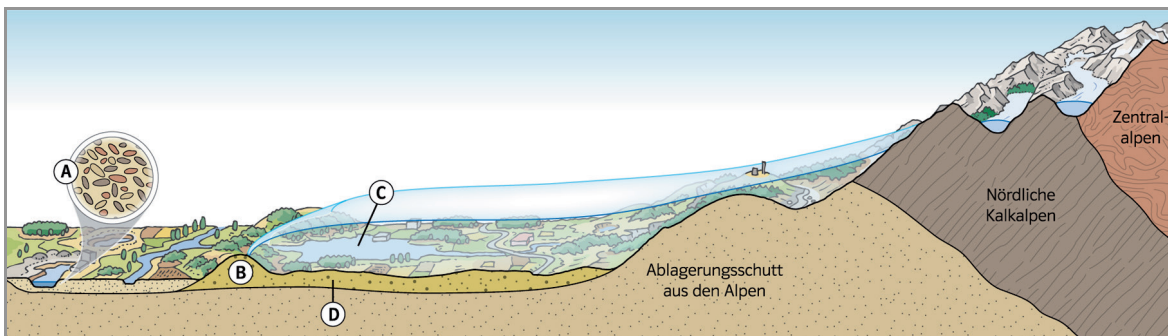


3. Fachmethoden anwenden (Methodenkompetenz)

a) Ich kann die Vereisung Oberschwabens anhand eines Profils erläutern. (S. 107)

9 Erläutere die Vereisung Oberschwabens anhand des Profils.

(/ 4 P.)



Name:

Klasse:

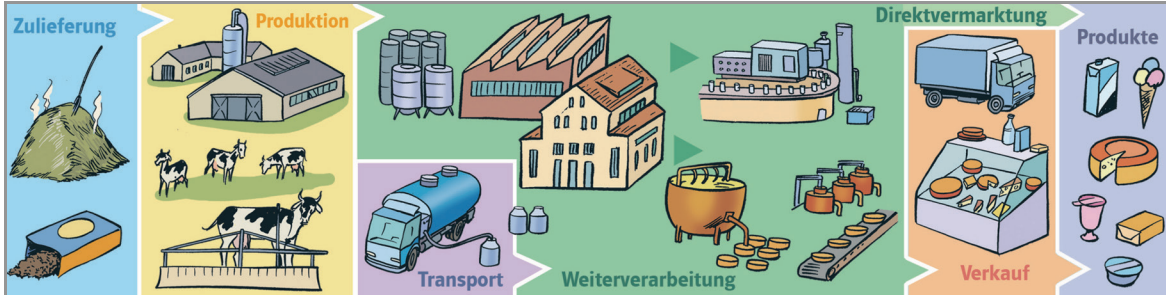
Datum:

Kompetenzcheck

b) Ich kann die Herstellung von Käse anhand eines Produktionsschemas beschreiben.
(S. 110–111)

10 Beschreibe die Herstellung von Käse anhand des Produktionsschemas.

(/ 8 P.)



c) Ich kann die Schritte einer Betriebserkundung nennen. (S. 114–115)

11 Nenne die Schritte einer Betriebserkundung.

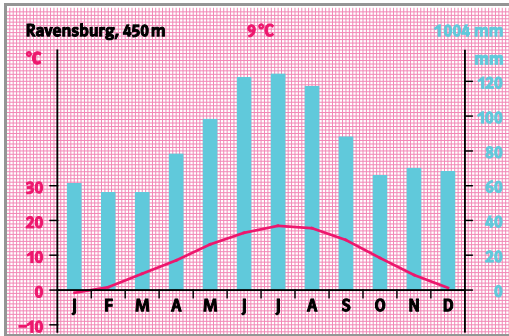
(/ 4 P.)

Kompetenzcheck

d) Ich kann ein Klimadiagramm lesen. (S. 112)

12 Überprüfe anhand des Klimadiagramms folgende Aussagen. Kreuze die richtigen Aussagen an und korrigiere die falschen Aussagen.

(/ 7 P.)



Klimamerkmale von Ravensburg:	
die Jahresdurchschnittstemperatur beträgt 9,0 °C.	<input type="checkbox"/>
die höchsten Temperaturen werden im August gemessen.	<input type="checkbox"/>
die niedrigsten Temperaturen werden im Januar gemessen.	<input type="checkbox"/>
die Niederschläge fallen zwischen Januar und März.	<input type="checkbox"/>
der Oktober ist der trockenste Monat in Ravensburg.	<input type="checkbox"/>
die Differenz zwischen wärmstem und kältestem Monat beträgt 19 °C.	<input type="checkbox"/>
Ravensburg liegt auf einer Höhe von 494 m über dem Meer.	<input type="checkbox"/>

4. Beurteilen und bewerten (Urteilskompetenz)

Ich kann die Bedeutung des Bodensees für die Trinkwasserversorgung Baden-Württembergs beurteilen. (S. 108–109)

13 Beurteile die Bedeutung der Bodensee-Trinkwasserversorgung für Baden-Württemberg mit Hilfe der Karte.

(/ 8 P.)



Name:

Klasse:

Datum: