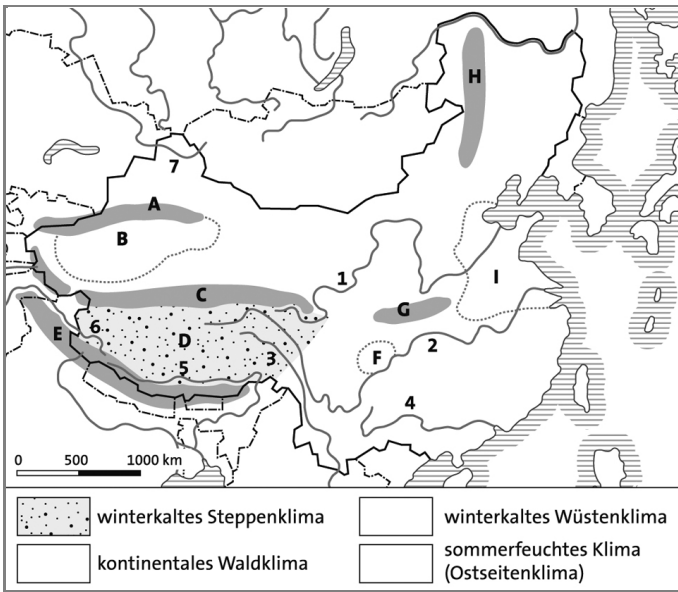


Karte A Naturraum: Relief und Klima



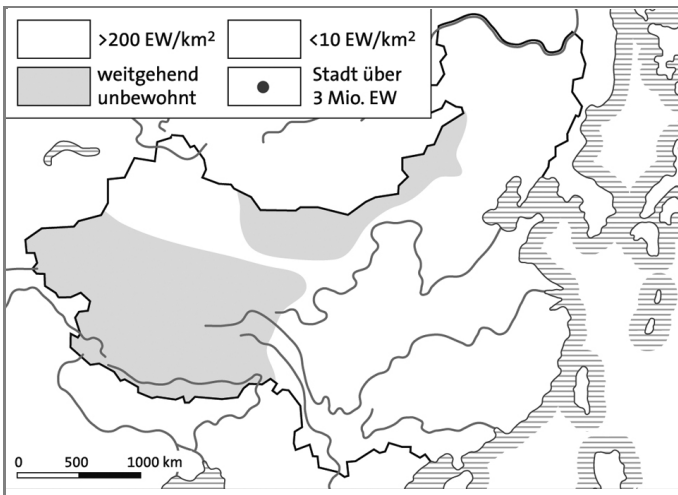
1 Benenne die in Karte A eingetragenen Flüsse 1 bis 7 und die Großlandschaften A bis H.

- | | |
|---------|---------|
| 1 _____ | A _____ |
| 2 _____ | B _____ |
| 3 _____ | C _____ |
| 4 _____ | D _____ |
| 5 _____ | E _____ |
| 6 _____ | F _____ |
| 7 _____ | G _____ |
| H _____ | I _____ |

2 Kennzeichne in Karte A mit unterschiedlichen Farben die großen Klimaregionen Chinas.

3 Kennzeichne in der Karte B Gebiete mit einer Bevölkerungsdichte von über 200 Einw./km² und unter 10 Einw./km².

Karte B Kulturraum: Bevölkerung und Städte über 3 Mio. Einwohner

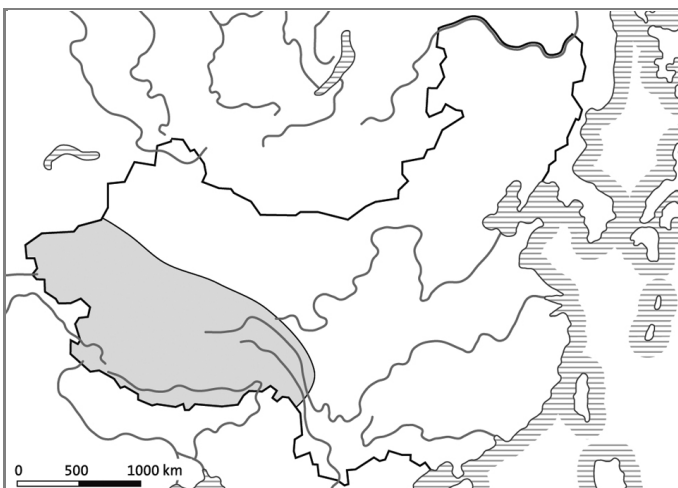


4 Nenne Natur- und Kulturraumfaktoren mit denen die unterschiedliche Bevölkerungsverteilung begründet werden kann.

5 Trage in die Karte B mit einem Punkt alle Städte mit über 3 Mio. Einwohnern ein.

6 Ermittle mithilfe einer Atlaskarte zu den Agrarsystemen/Agrarregionen der Erde Gebiete mit unterschiedlicher landwirtschaftlicher Nutzung und markiere diese in der Karte C farbig.

Karte C Kulturraum: Industrie und Landwirtschaft



keine systematische Nutzung

nomadische Weidewirtschaft (Schafe)

Ackerbau Rinder- und Schweinehaltung
nördlich des Yangtse: überwieg. Weizen
südlich des Yangtse: überwiegend Reis

7 Trage in die Karte C die Industrie- und Dienstleistungszentren A bis E ein.

- | | |
|------------------------------------|--------------------|
| A Hongkong-Kanton (Perlflossdelta) | |
| B Shanghai | C Peking-Tianjin |
| D Shenyang-Anshan | E Harbin-Changchun |
| F Chongqing | G Chengdu |

Name: _____

Klasse: _____

Datum: _____