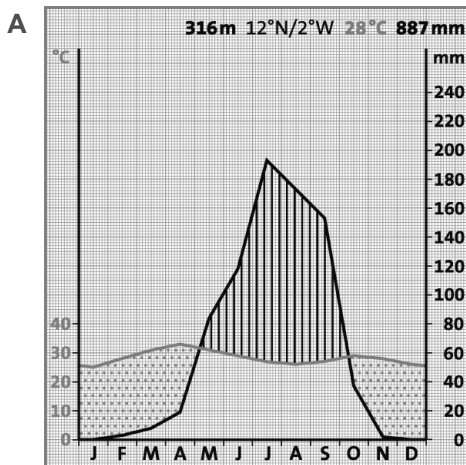


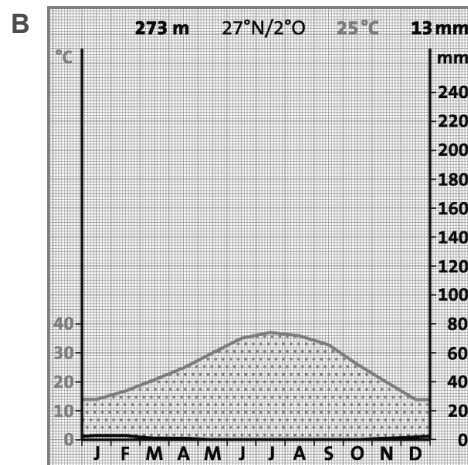
1 Vervollständige mithilfe der Klimadiagramme A bis D die Tabelle.

(_/8 P.)

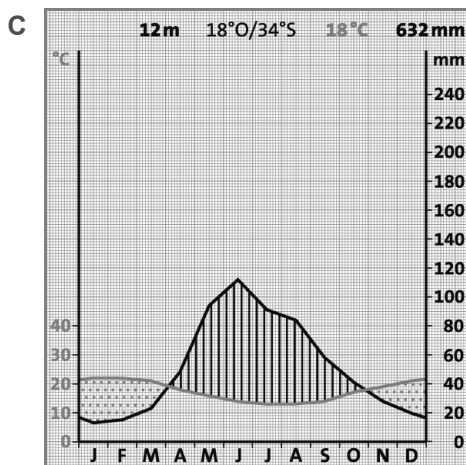
Klima- station	Klima- und Landschaftszone	Begründung der Zuordnung
A		
B		
C		
D		



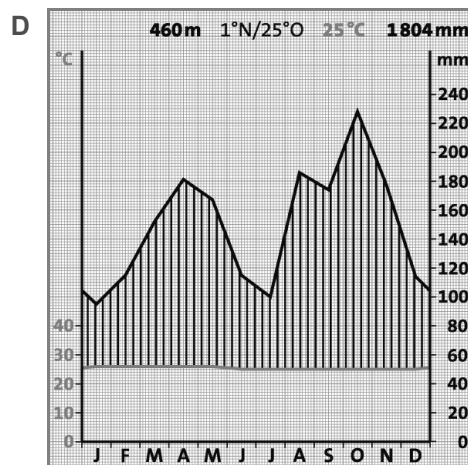
Bernhard Mühr, Karlsruhe: www.klimadiagramme.de



Bernhard Mühr, Karlsruhe: www.klimadiagramme.de



Bernhard Mühr, Karlsruhe: www.klimadiagramme.de



Bernhard Mühr, Karlsruhe: www.klimadiagramme.de

Name:

Klasse:

Datum:

2 Begründe

a) die gefiederten Blätter und tiefen Wurzeln der Akazien in der Dornsavanne.

(__ / 4 P.)

b) die Brettwurzeln und große Wuchshöhe der Bäume im Tropischen Regenwald.

(__ / 4 P.)

3 „Ohne Schrägstellung der Erdachse gäbe es in den Tropen keinen Wechsel von Regen- und Trockenzeiten.“ Beurteile diese Aussage.

(__ / 5 P.)

Gesamtpunktzahl: (__ / 21 P.)

Note:

Name: _____

Klasse: _____

Datum: _____