

1. Orientierungskompetenz

a) Ich kann die neun Nachbarstaaten Deutschlands im Uhrzeigersinn aufzählen. (S. 80/81)

1 Nenne die Nachbarstaaten Deutschland und beginne bei deiner Aufzählung im Norden. (_ /9 P.)

Dänemark, Polen, Tschechische Republik, Österreich, Schweiz, Frankreich, Luxemburg,

Belgien, Niederlande

stimmt	9 – 8 Punkte	stimmt überwiegend	7 Punkte	stimmt teilweise	6 – 5 Punkte	stimmt nicht	4 – 0 Punkte
Punkteverteilung: Nennung jeweils 0,5 P, richtige Reihenfolge je Land 0,5 P							

b) Ich kann jedem Bundesland mindestens zwei Lagemerkmale zuordnen. (S. 78/79)

2 Kreuze für Rheinland-Pfalz und Sachsen-Anhalt die korrekten Lagemerkmale an. (_ /6 P.)

Rheinland-Pfalz

 hat den Rhein als Landesgrenze zu Baden-Württemberg. liegt südlich von Hessen. grenzt an Frankreich und Luxemburg.

Sachsen-Anhalt

 hat die Elbe als östliche Landesgrenze zum Bundesland Thüringen. ist von vier Bundesländern umgeben. hat keine Grenze zu einem Nachbarstaat.

stimmt	6 Punkte	stimmt überwiegend	5 Punkte	stimmt teilweise	4 Punkte	stimmt nicht	3 – 0 Punkte
--------	----------	--------------------	----------	------------------	----------	--------------	--------------

c) Ich kann Deutschland in vier Großlandschaften gliedern.

3 Nenne die Großlandschaften in Deutschland von Nord nach Süd. (_ /4 P.)

1 Norddeutsches Tiefland, 2 Mittelgebirge, 3 Alpenvorland, 4 Alpen

stimmt	4 Punkte	stimmt überwiegend	3 Punkte	stimmt teilweise	2 Punkte	stimmt nicht	1 – 0 Punkte
--------	----------	--------------------	----------	------------------	----------	--------------	--------------

d) Ich kann drei verschiedene Landschaften Baden-Württembergs nennen. (S. 86/87)

4 Nenne drei Landschaften Baden-Württembergs. (_ /3 P.)

u.a. Hegau, Bauland, Breisgau, Ortenau, Stromberg, Kaiserstuhl ...

stimmt	3 Punkte	stimmt überwiegend	2 Punkte	stimmt teilweise	1 Punkt	stimmt nicht	0 Punkte
--------	----------	--------------------	----------	------------------	---------	--------------	----------

2. Sachkompetenz

a) Ich kann Landschaftsbilder den Großlandschaften zuordnen. (S. 78/79)

5 Ordne die Großlandschaften den Bildern richtig zu. (_ /4 P.)




Klett-Archiv (Enkelmann, Filderstadt), Stuttgart



Klett-Archiv (Rausch, Linsenhofen), Stuttgart



Klett-Archiv (Enkelmann, Filderstadt), Stuttgart



Europa Farbbildarchiv Klammet, Ohlstadt

3 Alpenvorland

2 Mittelgebirge

1 Norddeutsches

4 Alpen

Tiefland

stimmt	4 Punkte	stimmt überwiegend	3 Punkte	stimmt teilweise	2 Punkte	stimmt nicht	1 – 0 Punkte
--------	----------	--------------------	----------	------------------	----------	--------------	--------------

Name: _____

Klasse: _____

Datum: _____

b) Ich kann alle 16 Bundesländer mit ihren Hauptstädten benennen. (S. 80/81)

6 Benenne für die Bundesländer die passenden Hauptstädte und umgekehrt.

(/ 8 P.)

(16 x 0,5 P.)

Bundesland	Hauptstadt (bei Stadtstaaten identisch)	Bundesland	Hauptstadt (bei Stadtstaaten identisch)
1 Schleswig-Holstein	Kiel	9 Nordrhein-Westfalen	Düsseldorf
2 Mecklenburg-Vorpommern	Schwerin	10 Sachsen	Dresden
3 Hamburg	Hamburg	11 Thüringen	Erfurt
4 Bremen	Bremen	12 Hessen	Wiesbaden
5 Berlin	Berlin	13 Rheinland-Pfalz	Mainz
6 Niedersachsen	Hannover	14 Saarland	Saarbrücken
7 Brandenburg	Potsdam	15 Baden-Württemberg	Stuttgart
8 Sachsen-Anhalt	Magdeburg	16 Bayern	München

stimmt	8 – 7 Punkte	stimmt überwiegend	6 Punkte	stimmt teilweise	5 – 4 Punkte	stimmt nicht	3 – 0 Punkte
Punkteverteilung: 0,5 Punkte je richtige Lösung: 16 x 0,5 = 8 P.							

c) Ich kann die Aufgaben einer Hauptstadt benennen.

7 Kreuze die herausragenden Merkmale einer Hauptstadt an!

(/ 4 P.)

Eine Hauptstadt zeichnet sich im Vergleich zu einer „normalen“ Großstadt dadurch aus, dass ...

- Vertretungen ausländischer Staaten (Botschaften und Konsulate) vorhanden sind.
- sich dort ein Regierungssitz und Ministerien befindet.
- viele Menschen dort leben und arbeiten.
- eine große Einkaufsstraße zum „Bummeln und Shoppen“ einlädt.

stimmt	4 Punkte	stimmt überwiegend	3 Punkte	stimmt teilweise	2 Punkte	stimmt nicht	1 – 0 Punkte
Punkteverteilung: 4 Punkte für richtige Lösungen. 1 Punkt Abzug je falsche Lösung.							

d) Ich kann meinen Wohnort in die politische Verwaltungsgliederung einordnen.

8 Ordne deinen Wohnort in die Verwaltungsgliederung ein.

(/ 8 P.)

Mein Wohnort ... _____ liegt im Bundesland _____ Baden-Württemberg ,
 Im Regierungsbezirk _____ , im Stadt- oder Landkreis _____
 ... _____ , in der Gemeinde _____ .

stimmt	8 – 7 Punkte	stimmt überwiegend	6 Punkte	stimmt teilweise	5 – 4 Punkte	stimmt nicht	3 – 0 Punkte
--------	--------------	--------------------	----------	------------------	--------------	--------------	--------------

Name: _____

Klasse: _____

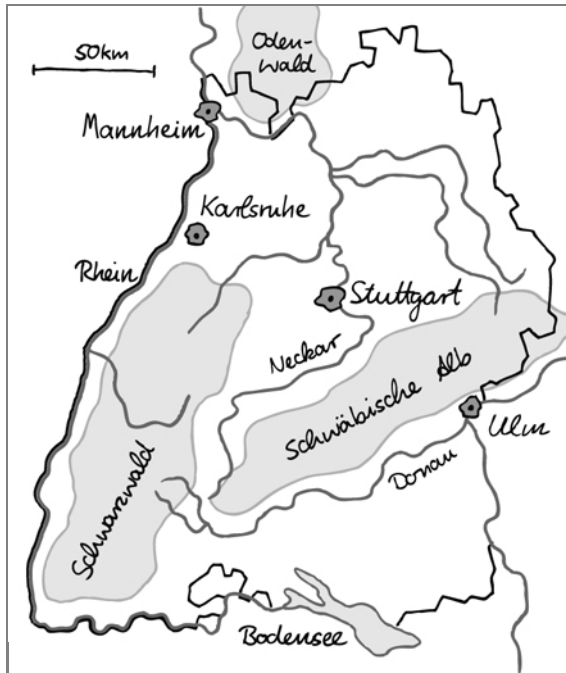
Datum: _____

3. Methodenkompetenz

a) Ich kann eine Kartenskizze von Baden-Württemberg erstellen.

9 Nenne die sechs Arbeitsschritte

- 1. Landesgrenze ergänzen (1); Farbe und Verlauf (1)
- 2. Rhein ergänzen (1); Farbe, Verlauf (1) und Beschriftung (1)
- 3. Bodensee ergänzen (1); Lage, Farbe (1) und Beschriftung (1)
- 4. Schwäbische Alb ergänzen (1); Lage, Farbe (1) und Beschriftung (1)
- 5. Fehlende Städte (Stuttgart) und X ergänzen (1); Lage, Farbe (1) und Beschriftung (1)
- 6. Odenwald (1), Donau (1) und Karlsruhe (1) beschriften.



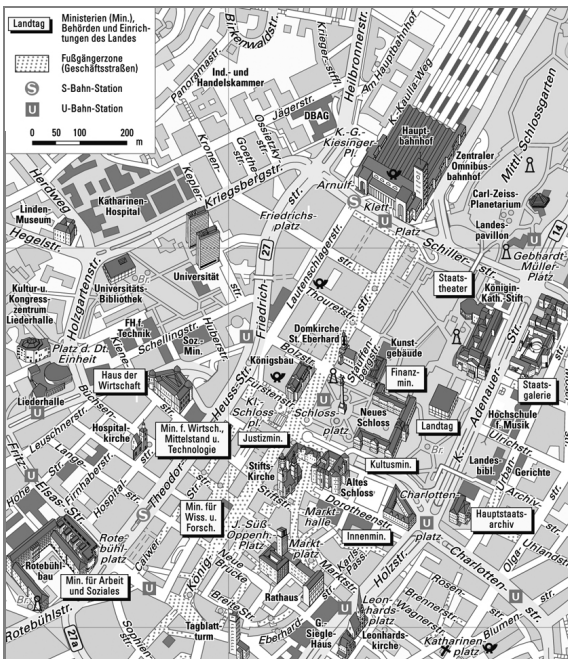
(_/17 P.)

stimmt	17 – 16 Punkte	stimmt überwiegend	15 – 13 Punkte	stimmt teilweise	12 – 9 Punkte	stimmt nicht	8 – 0 Punkte
--------	----------------	--------------------	----------------	------------------	---------------	--------------	--------------

b) Ich kann Objekte aus Schrägluftbildern in einer Kartendarstellung wiedererkennen.

10 Bestimme mithilfe des Stadtplans den Aufnahmeort und die Blickrichtung des Fotos.

(_/4 P.)



Kartenausschnitt aus Stadtplan von Stuttgart
Quelle: Stadtmessungsamt (Klett-Archiv), Stuttgart

Merkmal des Aufnahmeorts:

erhöhte Lage, freier Blick auf Gleise



Klett-Archiv (Christian Beck, Weingarten), Stuttgart

Aufnahmeort: Turm des Hauptbahnhofs Planquadrat: B1 Blickrichtung: Nordost

stimmt	4 Punkte	stimmt überwiegend	3 Punkte	stimmt teilweise	2 Punkte	stimmt nicht	1 – 0 Punkte
--------	----------	--------------------	----------	------------------	----------	--------------	--------------

Name:

Klasse:

Datum:

